

# 地理分野

## 1 【世界の国々】 右の記事を読み、問いに答えなさい。

(1) — 線部Aの線は、何度の経線を基準にしているか。次のア～エから1つ選び、記号で答えよ。

- ア 0度           イ 90度  
ウ 180度       エ 360度

(2) [B]にあてはまる国を次のア～エから1つ選び、記号で答えよ。

- ア キューバ           イ トンガ  
ウ マダガスカル      エ スリランカ

2000年の日の出世界一早い ホテル宿泊料  
倍以上

南太平洋の観光地でミレニアム・レートが問題になっている。A 日付変更線のすぐ西側に位置するため、新たな千年紀(ミレニアム)が始まる二〇〇〇年の初日の出を世界のごとよりも早くむかえられることを売り物に、ホテルが宿泊料を倍以上にし、これまではなかった手付金や全額前払いを要求しているのだ。  
[B]では首都の一流ホテルが年末から来年はじめは倍に値上げされる予定である。

1999年4月22日「朝日新聞」より要約

## 2 【人々の生活と環境】 右の記事を読み、問いに答えなさい。

(1) [A]にあ

てはまる語句を次のア～エから1つ選び、記号で答えよ。

- ア 砂漠  
イ 森林  
ウ サバナ  
エ 雪原

30年ごし交渉実る カナダの準州に

発足するのは「ヌナブット準州」。グリーンランドの対岸、バフィン島にある州都イカリット(旧フロビシャーベイ)は見渡す限りの[A]だった。自治政府誕生を前に、人口四千二百の州都は大忙しだ。[B]は、日本の面積の九倍近い北西準州の大半を領有する権利があると主張し、三十年余り前からカナダ政府と交渉してきた。七年前、領有権をあきらめざる見返りに、北西準州の東半分を[B]の自治政府とすることで合意していた。  
新政府づくりを率いてきたクスガクさんは、「[B]には政府など運営できるわけがないという偏見があるのは知っている。でも、われわれはこの土地を大切にしてきた民族はほかがない。白人が支配したのは、たかだか六十年だ。[B]は何千年も前からここに住んできた」と話す。

1999年3月31日「朝日新聞」より要約

(2) [B]にあてはまる民族名を答えよ。

## 3 【地理+歴史+公民】 右の記事を読み、問いに答えなさい。

(1) — 線部Aの地震は、ギリシャがある造山帯(山系)に属していることと関係が深い。この造山帯を何というか。

(2) [B]にあてはまる語句を次のア～エから1つ選び、記号で答えよ。

- ア パルテノン           イ コロセウム  
ウ モヘンジョ・ダロ      エ ヘレニズム

(3) [C]にあてはまる地球環境問題を何というか。

### 大震災と神殿

アテネ・アクロポリスの丘から道一本へだてたフィロパッポスの丘は、ちよっとしたキャンプ場と化していた。古代ギリシャの石片の間に色とりどりのテントが並ぶ。地べたに直接、毛布を敷いて寝ている人もいる。二千年間地震にたえてきた神殿のある丘は、たしかに格好の避難場所に思える。A 今回の地震で深刻な被害を受けたのは、高度成長でアテネの人口が急に拡大した一九七〇・八〇年代に建てられたビルやアパート。ずさ

んな建築、粗悪な建築材料がたたった。[B]神殿では修復作業員のおじさんが「地震の時は神殿が宙に浮いたのかと思ったよ。でも結局、びくともしなかつたね」。六層のがんじょうな花こう岩の土台が、大理石の神殿をしっかりと支えているという。おじさんはこう言う、「地震よりこわいのは雨だね」。大気汚染が原因と見られる[C]で、大理石が粉末状にはげ落ちていくという。

1999年9月11日「朝日新聞」より要約

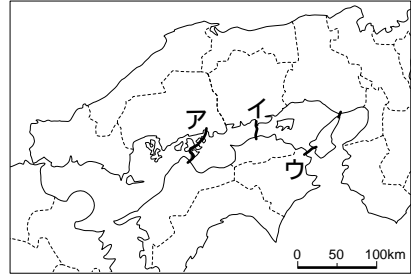
4 【中国・四国地方】 右の地図を見て、問いに答えなさい。

(1) 瀬戸内海には、3つの本州四国連絡橋が通っている。次の①～③

にあたるルートを地図中のア～ウから1つずつ選び、記号で答えよ。

- ① 広島県尾道と愛媛県今治間を結んでいる。
- ② 兵庫県神戸と徳島県鳴門間を結んでいる。
- ③ 岡山県児島と香川県坂出間を結んでいる。

① ..... ② ..... ③ .....



(2) 地図中のア～ウのうち、1999年5月1日に開通した最も新しいルートを選び、記号で答えよ。

.....

5 【地理+歴史+公民】 右の地図と次の資料を見て、あとの問いに答えなさい。

世界の文化遺産および自然遺産の保護に関する条約

過去の文明の実相を解明する手がかりとなる遺跡(文化遺産)や貴重な自然など(自然遺産)を保護し、次の世代へと引きついでいくために、世界中の人々の国際協力を推進することを目的に、1972年の第17回[ ]総会で採択された国際条約。

(1) 地図中の [ ] は上の資料中の文化遺産、 [ ] は自然遺産を示している。史料中の下線部の条約は、一般に何とよばれているか。漢字6字で答えよ。

.....

(2) 資料中の [ ] にあてはまる国際連合(国連)の機関名を、カタカナの略称で答えよ。

.....

(3) 地図中の ア～オのうち、古代の都の名残りで道路が碁盤の目のように区画されている地域を2つ選び、記号で答えよ。

.....

(4) 地図中の アはある戦争によって被害を受けた建物である。この戦争を次のア～エから1つ選び、記号で答えよ。

- ア 日露戦争      イ 朝鮮戦争      ウ 太平洋戦争      エ 日清戦争

.....

(5) 地図中の イは、豊臣秀吉に関係が深い「白鷺城」ともよばれている城である。この城を次のア～エから1つ選び、記号で答えよ。

- ア 安土城      イ 姫路城      ウ 大阪城      エ 小田原城

.....

(6) 地図中の Aの島の名称を次のア～エから1つ選び、記号で答えよ。

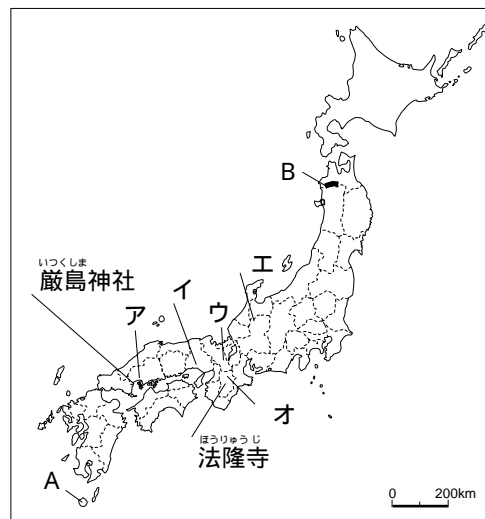
- ア 屋久島      イ 佐渡島      ウ 種子島      エ 奥尻島

.....

(7) 地図中の Bの地域で保護されている自然を次のア～エから1つ選び、記号で答えよ。

- ア 縄文すざ      イ 湿原      ウ ぶな林      エ マングローブ林

.....



# 歴史分野

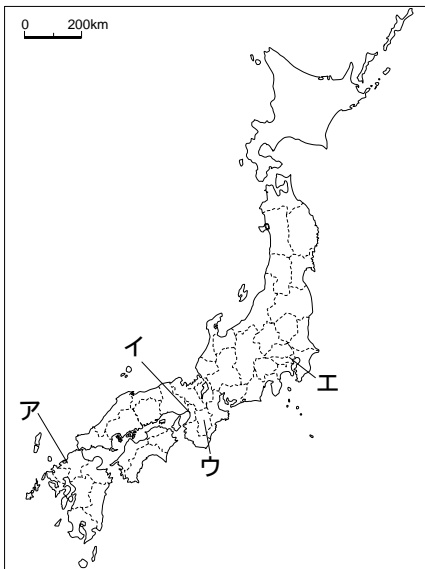
6 【日本の始まり】 Kさんは1992年から始まったある遺跡の緊急調査に参加した。右の資料は、そのときのおもな発見物である。これを読んで、問いに答えなさい。

- (1) この遺跡は、何時代のものだと考えられるか。 -----
- (2) 青森県で発見されたこの遺跡の名称を答えよ。 -----
- (3) これらの発見物から推測されることとして適当な内容を、次のア～エから2つ選び、記号で答えよ。
- ア 従来はこの時代には身分差がないと見られていたが、実は階級社会だったのではないか。
- イ このころ、大陸から稲作が伝えられたのではないか。
- ウ この集落では数百人もの人々が同時期に暮らしていたのではないか。
- エ のぼりがまを使用して大量の土器が製作されていたのではないか。 -----

- ・高さ約15mの大型掘っ立て柱建物
- ・直径約2mもある6つの柱穴跡
- ・遺跡中央から東方に420mにわたってのびる幅最大15mの道路と、その両わきに規則的に掘り込まれた大人の墓
- ・床の横の長さが25mをこえるロングハウスの跡
- ・おびただしい数の土器や土偶、石器
- ・祭りが行われたとみられる盛り土

7 【飛鳥～奈良時代】 右の記事を読み、問いに答えなさい。

- (1)  にあてはまる時代名を答えよ。 -----
- (2) ——線部Bの遺跡がある場所を、次の地図中のア～エから1つ選び、記号で答えよ。 -----



## 最古の通貨は「富本銭」飛鳥池

「A」時代の金属や装飾品の工房群跡である明日香村の飛鳥池遺跡から、「富本の文字のある七世紀後半の銅銭」の破片三十三点が出土し、発掘にあたった奈良国立文化財研究所は、「わが国最初の流通貨幣である可能性が極めて高い」と発表した。これまでは七〇八年発行とされる「C」が最初の通貨といわれてきた。今回の発見は日本の貨幣史を塗り替えるもので、律令国家体制が整えられつつあった時代の経済や貨幣制度などについての研究が大きく前進しそうだ。

富本銭の一部は、日本最古の本格的な寺院である飛鳥寺

のなかの東南禅院のかわらを焼いたかまの跡より古い層にあった。東南禅院は七世紀後半に建てられたことがわかっており、富本銭がこの時期にこの場所で鑄造されたのは確実という。研究所は、「D」の六八三年四月十五日の項に「今より以後、必ず銅銭を用いよ」という記述がある。中国・唐の「開元通宝」（六二一年）と大きさや重さがよく似ている。当時の宮殿に隣接した工房群跡から大量に見つかったことから、天武天皇（在位六七三～六八六年）の時代に造られた日本最初の通貨だった可能性が極めて高いと判断したとしている。

1999年1月20日「朝日新聞」より要約

- (3)  にあてはまる通貨の名称を答えよ。 -----
- (4)  の通貨はおもに都の市で使用されていた。この都の名称を答えよ。 -----
- (5)  にあてはまる、8世紀はじめにつくられた歴史書を次のア～エから1つ選び、記号で答えよ。
- ア 万葉集      イ 日本書紀      ウ 古今和歌集      エ 風土記

8 【基本的な人権にかかわる裁判と法律】 右の資料1は1999年に判決の出た裁判に関するもので、資料2は

1999年に成立した法律である。

これらの資料を読み、問いに答えなさい。

(1)——線部Aのように、民事裁判にうったえ出た人のことを何というか。

(2) [B] に共通してあてはまる語句をカタカナで答えよ。

(3) [C] に共通してあてはまる語句を答えよ。

(4)——線Dはどの基本的人権と最も関係が深いか。次のア～エから1つ選び、記号で答えよ。

- |           |         |
|-----------|---------|
| ア 社会権     | イ 精神の自由 |
| ウ 経済活動の自由 | エ 平等権   |

資料1 < A女性のうったえ >

「小説において、承諾なしに顔の障害や経歴などをくわしくえがかれ、[B]が傷つけられた。」

< 判決の内容 >

「原作者と出版元に対して、一切の方法による小説の公表差し止めと、総額130万円の慰謝料を支払うよう命じる。」

< 裁判長が述べた判決の理由 >

「モデルが推定されるうえ、現実と虚構がおりまぜられて読者に誤解をあたえる危険性が高く、公表することは[B]の侵害にあたる。」

資料2 < 成立した法律 >

犯罪捜査のための[C]傍受を柱とする組織犯罪対策法

< 法律適用の対象 >

[C]傍受には組織的殺人、薬物、銃器犯罪、集団密航に限定され、立会人の常時立ち会いが義務付けられるなど諸外国と比べてもきびしい条件が付けられている。捜査員らに[D]の秘密をおかす行為があった場合は懲役刑に処せられるなど重い罪が盛り込まれている。

9 【内閣】 省庁再編に関する次の会話文を読み、あとの問いに答えなさい。

生徒：省庁再編の話が進んでいますが、どう再編するのですか？

先生：内閣府を新設し、1府12省庁体制にするのです。今の中央官庁は総理府と22の省庁があるけど、これを、新設する内閣府と12の省庁にまとめ直します。建設、[1]両省と国土庁、北海道開発庁がいっしょになって国土交通省という巨大官庁が生まれるほか、行政改革などを担当していた総務庁と自治省、郵政省が総務省に合流します。厚生と労働両省、文部省と科学技術庁が合体する。予算編成などを担当する[ ]省は財務省に衣替えし、[2]省から分離して金融機関の監督を担当している金融監督庁は、ひと足早く2000年7月に金融庁になるんです。

生徒：となると、人の数も相当減らされるんですか。

先生：そう。政府は10年間で国家[3]数を25%削減すると決めました。

生徒：なぜ再編する必要があるんですか。

先生：縦割り行政の弊害を改めていくためです。国の政策を[4]が密室で決めてきたことへの強い批判が原動力になりました。薬害エイズ問題で、事件の真相にかかわる重要書類が[5]省内に隠されていたことが明るみに出ましたね。こうしたことをなくすため、「大事な政策は、選挙で選ばれた政治家が決めるべきだ」という声が高まったんです。

生徒：でも、政府が国会に提出する法案は[6]において首相と大臣によって決定されるんですよね。

先生：でも現実には、法案は各省庁の[4]がまとめ、閣僚はそれを追認するだけになっているんです。

生徒：行政はほんとうに変わるんですか。

先生：変わるきっかけにはなるでしょう。省庁再編で導入される新しい制度のひとつに「政策評価」があります。ダム建設や港湾の整備など、今まではいったんスタートした事業や政策は、必要性がなくなってもその

まま続けられる場合が多く、税金のむだづかいになっていましたから。新しい制度は、すでに始まった事業も新しく始める事業も効果があるかどうかを判定し、場合によっては計画を中止したり変更したりしてこういう制度です。各省庁に、こうした評価を担当する組織を設けるほか、総務省の行政評価局が全省庁をチェックするしくみになっています。みんなで行政を監視していく必要がありますね。

生徒：地方分権などで省庁の権限を減らしていくことも大切ですね。

先生：これまで役所は、はっきりした法律の根拠がなくても、「行政指導」のかたちで、業界に口をはさんできました。長年続けてきた米の「7」指導にしても、1994年に新食糧法ができるまでは「7」を定めた法律はなかったんです。今度の法案は、役所の「指導」が入る余地をできるだけなくそうとしているんですね。

1999年5月1日「朝日新聞」をもとに構成

(1) 1 ~ 7 にあてはまる語句を次の から 1 つずつ選んで答えよ。

大蔵 外務 厚生 自治 運輸 官僚 国会議員  
公務員 大臣 減反 輸入自由化 閣議

1 ..... 2 ..... 3 ..... 4 .....  
5 ..... 6 ..... 7 .....

(2) —線部について、1997年にある湾が干拓事業のために閉め切れ、カニや貝、ゴカイ類など干潟の生物の死滅が心配されている。この湾の名を次のア～エから 1 つ選び、記号で答えよ。

ア 英虞湾 イ 諫早湾 ウ 陸奥湾 エ 内浦湾

10 【地方自治】 右の表は住民投票を求める過去2年間の請求をまとめたものである。これを見て、問いに答えなさい。

(1) 住民投票が連敗続きである理由を述べた次の文中の A ~ C にあてはまる語句と数字を答えよ。

住民投票を実現するためには、有権者の A 分の 1 以上の署名で B の制定を請求しなければならない。しかし、議会が B 案を可決しなければ住民投票は実現しない。一方、リコールの場合には、リコール請求するだけで有権者の C 分の 1 もの署名が必要である。有権者が百万人をこえるような大都市では簡単ではない。

A ..... B .....

C .....

(2) 1 ぬように、地方自治では住民の意思を反映するために直接民主制のしくみを取り入れている。このような住民の権利を何というか。

年月	地方公共団体	テーマ	採決
97. 3	大分県別府市	大学への市有地無償譲渡	×
	茨城県常北町	競輪場外車券売場建設	×
4	福島県鹿島町	同	×
6	岐阜県御嵩町	1 産業廃棄物処理施設の設置	
7	宮崎県新富町	総合文化公園事業	×
11	宮崎県小林市	産業廃棄物処理施設の設置	
12	山梨県富士吉田市	市立病院の建設	×
	沖縄県名護市	2 ヘリポート基地建設	
98. 2	岡山県吉永町	産業廃棄物処理施設の設置	
	岡山県佐伯町	下水道汚泥処理施設の建設	×
3	愛知県豊山町	新空港への定期便一元化など	×
	愛知県	海上の森での愛知万博開催	×
4	埼玉県岡部町	場外舟券売場の設置	×
	愛知県美浜町	中部国際空港の建設	×
	大阪府島本町	府営水道の導入	×
	富山市	大学院大学の誘致	×
7	愛知県豊田市	スタジアム建設	×
10	静岡県下田市	交流拠点施設の建設	×
11	滋賀県甲賀町	産業廃棄物処理施設の設置	×
	神戸市	市営空港の建設	×
99. 2	埼玉県与野市	与野・大宮・浦和 3 市合併	×
	名古屋市	3 藤前干潟の埋め立て	×
	徳島市	吉野川の可動堰建設	×
	新潟県小国町	宗教団体の墓地建設	×
	徳島県藍住町	吉野川の可動堰建設	×
3	滋賀県	びわこ空港の建設	×
	新潟県柏崎市	4 原子力発電所プルサーマル計画の導入	×
	新潟県刈羽村	同	×

1999年3月23日「朝日新聞」より

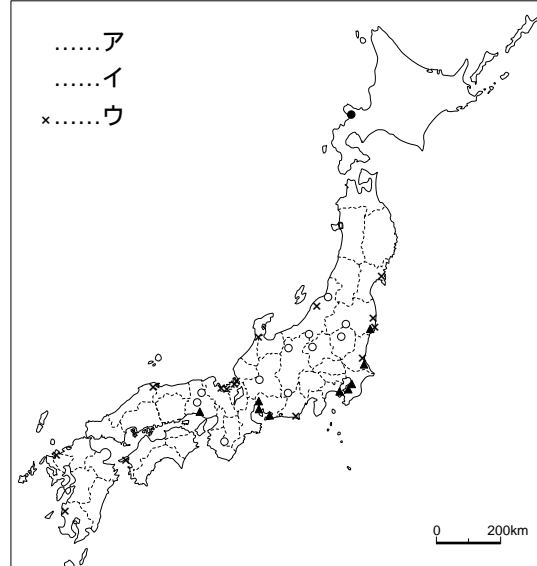
(3) 表中の1について、産業廃棄物処理場からは、かつて除草剤などに使用された毒性の強い物質で、生態系などに影響をあたえる環境ホルモンの一種が発生するとして問題になっている。この物質を何というか。

(4) 表中の2について、「基地」とはどこの国のものか。国名を答えよ。

(5) 表中の3について、多様な生態系をもつ湿地を守るための国際条約があり、日本では琵琶湖・釧路湿原・谷津干潟などが指定されている。この条約名を次のア～エから1つ選び、記号で答えよ。

- ア ワシントン条約      イ 生物多様性条約  
ウ 砂漠化防止条約      エ ラムサール条約

(6) 表中の4について、原子力発電所の分布を示したものを、右の地図中のア～ウから1つ選び、記号で答えよ。



11【平和主義】 右の年表は、第二次世界大戦で敗れた日本とドイツについて、「自国の近くでの武力衝突」という点でまとめたものである。これを見て、問いに答えなさい。

(1)  にあてはまる語句を答えよ。

(2) —線部Bの条約は日本とどこの国の条約か。国名を答えよ。

(3) —線部Cの指針は( )にも共通してあてはまる。この指針のことをカタカナで何というか。

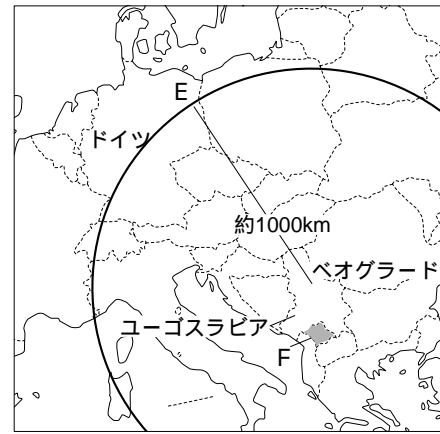
年	日本	ドイツ
1945	敗戦	敗戦
48	南北朝鮮が成立	<input type="text" value="E"/> 封鎖
49		東西ドイツ成立
50	<input type="text" value="A"/> 戦争が始まる	
52	サンフランシスコ平和条約・ <input type="text" value="B"/> 安保条約	
54	自衛隊が発足	
55		西ドイツがNATO加盟
60	安保条約改定	
61		<input type="text" value="E"/> の壁構築
72	沖縄返還・日中国交正常化	
78	「 <input type="text" value="C"/> 日米防衛協力のための指針」決定	
89		<input type="text" value="E"/> の壁崩壊
90		東西ドイツ統一
91	湾岸戦争。ペルシャ湾に掃海艇派遣	掃海艇派遣
92	カンボジアでの国連平和維持活動に自衛隊が参加	ボスニア・ヘルツェゴビナ内戦始まる
94	核疑惑をめぐる朝鮮半島危機	
96	日米安保共同宣言	
97	新( )に合意	
98	<input type="text" value="D"/> 北朝鮮が弾道ミサイル発射	議会在ユーゴ空爆参加を承認
99	( )関連法案が国会通過	<input type="text" value="F"/> ドイツ国内からNATO軍が出撃

1999年5月21日「朝日新聞」をもとに構成

(4) —線部Dのミサイルの一部が落下した地域を、次のア～エから1つ選び、記号で答えよ。

- ア 南西諸島      イ 対馬海峡      ウ 三陸沖      エ オホーツク海

(5) には、右の地図中のEの都市名があてはまる。現在のドイツの首都であるこの都市名を答えよ。



(6) 線部Fについて、この空爆は地図中のの自治州で行われていた民族弾圧をやめさせるために実施された。にあてはまる地名を答えよ。

(7) 「自国の近くでの武力衝突」のことを何というか。次のア～エから1つ選び、記号で答えよ。

- ア 有事立法      イ 緊急事態      ウ 安全保障      エ 周辺事態

## 経 済

**12**【金融】現在の日本では、金融制度の抜本的な改革が進められている。これについてまとめた次の資料を読み、問いに答えなさい。

<改革のねらい>

1. 日本を、1200兆円にのぼる国民の個人金融資産を有利に運用できる市場に変え、次世代をにう成長産業への投資や、世界に向けて資金を円滑に供給できる体制を整えること。
2. 東京を金融取引に「使いやすい」市場に整備し、ニューヨーク、ロンドンに並ぶ国際金融市場に育てる。

<すでに行われた改革>

1. 外国管理法(外為法)の改正...銀行以外の一般企業にも、外為業務を解禁し、海外の銀行に外貨建て、円建ての口座を自由に開けるようにした。
2. 銀行と保険会社の投資信託販売の解禁...銀行は、低金利で魅力の薄れている預金にかわって、個人の資金を吸収する強力な金融商品に投資信託を育てることをめざしている。
3. 株式売買委託手数料、火災・自動車保険料率の完全自由化...商品選択の幅を大きく広げた。

(1) これらの金融制度の改革をまとめて「日本版」という。にあてはまる語句をカタカナ5字で答えよ。

(2) 資料中のにあてはまる語句を次のア～エから1つ選び、記号で答えよ。

- ア 金融      イ 相場      ウ 流通      エ 為替

(3) 線部Cについて、わが国からみたとき、外為の相場と輸入品の価格についての一般的な説明として正しい文を次のア～エから1つ選び、記号で答えよ。

- ア 1ドル=120円から1ドル=100円のように、円安になると、輸入品の価格は高くなる。
- イ 1ドル=120円から1ドル=100円のように、円高になると、輸入品の価格は安くなる。
- ウ 1ドル=120円から1ドル=100円のように、円安になると、輸入品の価格は安くなる。
- エ 1ドル=120円から1ドル=100円のように、円高になると、輸入品の価格は高くなる。

(4) 線部Dについて、銀行の金利はなぜ低くなったか。次のア～エから1つ選び、記号で答えよ。

- ア 日本銀行が公定歩合を引き上げたため。      イ 日本銀行が公定歩合を引き下げたため。
- ウ 大蔵省が公定歩合を引き上げたため。      エ 大蔵省が公定歩合を引き下げたため。

(5) 線部Eについて、株式会社では、株主であることを証明する株券を発行している。株式会社が株券を発行する目的を簡単に説明せよ。

13【財政】 右の記事を読み、問いに答えなさい。

- (1) —線部Aについて、予算を最初に審議する機関を次のア～エから1つ選び、記号で答えよ。
- ア 日本銀行  
 イ 衆議院本会議  
 ウ 衆議院予算委員会  
 エ 会計検査院

景気浮揚へ借金依存 99年度予算大蔵原案

政府は二十一日午前の臨時閣議で、一般会計総額八十一兆八千六百一億円の一九九九年A予算の大蔵原案を了承した。九七、九八年度とマイナス成長が続く日本経済を、「はつきりとしたプラス成長」に転換させるという「B」首相の公約実現に向け、積極的な財政で景気回復をはかる姿勢を打ち出すことに力点を置いたとしている。一方、歳入面では、不況や来年から実施する九兆円超の「C」の影響で税収が二割近く減り、財源不足を補う「D」発行は、今年度当初の二倍近い三十一兆円余に達した。財政の「借金体質」も限界に近い。

- (2) 「B」にあてはまる首相の名を次のア～エから1つ選び、記号で答えよ。
- ア 橋本  
 イ 小淵  
 ウ 鳩山  
 エ 小沢

歳入のうち、どれだけ借金にたよっているかを示す「D」依存度は三七・九%に達した。九八年度当初の二〇・〇%から急激に上昇し、十九年ぶりに三〇%台に乗った。過去最悪だった七九年度（三九・六%）にもせまっている。国と地方を合わせた財政赤字は、GDPの九・二%に達し、二%内外におさえられている欧米諸国と大幅な差がついた。また、税収の落ちこみが激しい大都市部の地方自治体では、E公立学校の入学金など各種料金の値上げ方針が相次いでいる。国がいくらか負担抑制や大盤振る舞いを続けても、景気回復による「F」地方税収の伸びが期待できなければ、国民生活の足元で負担増が進むおそれもある。

1998年12月21日「朝日新聞」より要約

- (3) 「C」にあてはまる語句を次のア～エから1つ選び、記号で答えよ。
- ア 減税      イ 増税      ウ 公定歩合の引き上げ      エ 公定歩合の引き下げ
- (4) 「D」に共通してあてはまる語句を答えよ。
- (5) —線部Eのような料金を何というか。
- (6) —線部Fについて、地方税収の少ない地方公共団体に対して、国から援助される資金のことを何というか。

14【財政】 右の記事を読み、問いに答えなさい。

- (1) —線部Aは何という行政機関のもとに置かれているか。
- (2) 「B」に共通してあてはまる語句を答えよ。

経企庁調査 2025億円生む

A 経済企画庁は、子どものいる世帯などに政府が今春支給した「B」券が消費にあえた効果についてアンケートした結果を五日、公表した。使われた金額のうち、「B」券により新たに生まれたと見られる消費は三二%をしめ、GDPを年率で〇・一%押し上げた、と分析している。全国九千世帯を対象に調べた結果、交付された世帯のうち七六%が「B」券をすでに使い終えており、利用額は九割近くに達した。このうち「B」券がなければ買わなかったという額は使用額の一八%、さらに、「B」券がきっかけになってより高価なものを買うなど支出が増加したと見られる額は、使用額の一四%にあたるという。これを交付された「B」券の総額六千九十四億円にあてはめると、二十五億円分の消費を押し上げたことになる計算。

1999年8月7日「朝日新聞」より要約

- (3) 政府が「B」券を発行した目的を、「消費」「景気」の2つの語句を用いて簡単に説明せよ。



15 【労働】 次の記事を読み、問いに答えなさい。

失業率最悪の4.9% 先月 男女とも再上昇

総務庁が三十日発表した労働力調査によると、六月の完全失業率は四・九%（季節調整値）で、前月に比べ〇・三ポイント上昇し、現行調査を始めた一九五三年以降で最も高かった今年四月の四・八%を上回り、最悪記録を更新した。男女別では男性が五・一%、女性が四・四%で、いずれも前月比〇・二ポイント上昇し、男性は最悪となった。A 完全失業者は百十八万人にのぼり、最多となった。労働省が同日発表した六月の有効求人倍率は〇・四六倍（季節調整値）で、六三年以降の最悪の前月と並んでいる。

労働力調査によると、六月の完全失業者は三百二十九万人で、前年同月に比べて四十五万人増えた。うち自発的離職による失業者は百三万人で、五万人増にとどまったが、非自発的離職の失業者は二十八万人も増え、B による人員削減の動きが強まっていることを裏付けた。年齢別の失業率は、男性の二十五・三十九歳が五・四%、五十五・五十九歳が四・九%で、前年同月に比べそれぞれ一・五ポイント、一・一ポイント上昇し、いずれも最悪記録を更新した。就業者は六千五百十九万人で、前年同月比八十九万人減。十七カ月連続の減少で、前年同月比の減少幅は第一次C 後の不況だった七四年十月（百五十万人減）に次いで大きかった。

緊急雇用対策を盛りこんだ五千億円超の補正予算が国会で成立した。雇用の悪化を見越した思い切った対策だが、効果はすぐには出てこない。一方、衆院で可決された産業活力再生特別措置法案は企業の競争力を高めるのがねらいだが、企業のB を促進し、「雇用不安を助長させる」（連合）という側面があるのは否めない。このため、当面の失業率の悪化は避けられない。国民の先行きの不安感を和らげ、消費マインド（心理）を回復させることはむずかしく、D 下げ止まり感の出ている景気を支える対策は欠かせない。

1999年7月30日「朝日新聞」より要約

(1) — 線部Aの完全失業者の意味を正しく説明したものを次のア～エから1つ選び、記号で答えよ。

- ア 労働力人口(15歳～64歳)のうち、働く意思のない者。
- イ 労働力人口(15歳～64歳)のうち、働く意思はあるが倒産などにより職を失った者。
- ウ 労働力人口(15歳～64歳)のうち、正社員ではなくアルバイトとして働いている者。
- エ 労働力人口(15歳～64歳)のうち、働く意思も能力もない者。

(2) B に共通してあてはまる語句をカタカナ4字で答えよ。

(3) C は中東戦争をきっかけとして主要な先進工業国が経済的な打撃を受けたできごとである。このできごとを何というか。

1986年末から91年2月までの景気拡大では、低金利政策とカネ余り現象の相乗効果で、土地・株の価格が急上昇した。内需拡大をかけた87年の緊急経済対策が火に油を注いだとの指摘もある。株価は89年12月にピークをつけた後、90年末に大幅下落が始まり、いわゆるE 崩壊の過程に入った。

(4) — 線部Dについて、右の文は日本経済が長期の不景気におちいったきっかけについて説明している。E にあてはまる語句をカタカナで答えよ。

16 【労働】 次の広告を読み、問いに答えなさい。

A 法および育児・介護 B 法改正のポイント 女性の職域の拡大をはかるため、男女同一の労働条件へ。

A 法については、このほかにも労働時間や労働契約に関する改正が行われました。

女性労働者のみに対する規制を解消！  
 女性労働者に対する時間外・休日労働、深夜業の規制が解消され、男女同一の労働条件の枠組みとなつた。  
 男女ともに長時間の時間外労働を抑制！  
 長時間の時間外労働を抑制するため、時間外労働の限度に関する基準が定められました。  
 育児や介護を行う労働者の深夜業の制限の制度を新設！  
 育児や介護を行う一定範囲の男女労働者には、深夜業を制限する制度ができました。

C 法改正のポイント

女性労働者が性により差別されることなく、母性を尊重されつつ、その能力をじゅうぶんに発揮できる職場をつくるために。

雇用のすべての分野で、女性に対する差別が禁止されます！

事業主は、募集・採用、配置・昇進・教育訓練、福利厚生、定年・退職・解雇の各分野において、女性に対する差別が禁止されます。例えば、求人を行う際に「男性営業社員募集」や「女性パート募集」など、男女で異なる取りあつかいを行うことはできません。

1999年1月26日「朝日新聞」より要約

(1) A は「労働三法」の1つで、労働時間などの労働条件の最低基準を定めている。あてはまる法律名を答えよ。

(2) B には「育児や介護のために仕事を休むこと」を意味する語句があてはまる。その語句を次のア～エから1つ選び、記号で答えよ。

ア 休暇      イ 就業      ウ 休業      エ 有給

(3) C には、1985年に成立した法律があてはまる。その法律名を答えよ。

17 【社会保障】 次の会話文を読み、問いに答えなさい。

娘：A 制度のスタートが1年後にせまってきたわ。これってどういう制度なの？

父：「社会全体で支える高齢者介護」をうたう新しいしくみだよ。ホームヘルパーの利用や施設への入所など、税金でまかなわれてきたお年寄りの介護が、B で行われるようになるんだ。

娘：サービスは、どうやって受けるの？

父：市町村に申請し、「介護が必要」と認定されなければならないんだ。40歳以上で、介護が必要と認められた人だけがA のサービスを受けられる。65歳以上なら、けがで寝たきりになった人でもいいけど、64歳以下の人には、痴呆や脳血管疾患など老化が原因とされる病気で介護が必要になった場合に限られるんだ。サービスを受けるには、まず市町村に申請する。受け付けは10月から全国いっせいに始まるよ。申請すると市町村から派遣された訪問調査員がきて、日常生活についていろいろたずね、結果は全国共通の基準でコンピュータ分析されるんだ。次に保健や介護、医療の専門家たちによる審査会が開かれるよ。一人ひとりのお年寄りについて、コンピュータ分析の結果と、かかりつけの医師の意見書などを参考に、介護の必要度を7段階に分ける。これが「要介護認定」という手続きだ。

娘：その認定がもらえなければ、A のサービスは受けられないの？

父：「自立できる」と認定されるとA のサービスは受けられないよ。ただし制度スタート時に特別養護老人ホームなどの施設に入っている人は、2005年3月まで、そのまま施設で暮らせるんだ。

娘：サービス内容を具体的に教えて。

父：どこで、どんなサービスを受けるか、本人が選ぶのが基本だ。在宅介護支援センターなどの相談窓口を訪ねると、専門の相談員が本人や家族の希望やようすなどに応じて、無料でサービス計画を作ってくれる。もちろん自分で計画を立ててもいいよ。ホームヘルパーの仕事には、直接体にふれる「身体介護」と「家事援助」がある。身体介護には、1 などがある。家事援助は、2 などがある。ただし、これはメニューのうえでのこと。実際にどのサービスをどれだけ受けられるかは、市町村によってちがうんだ。

D は「実際は全員が希望するわけではないから、かなりの程度対応できる」と見ているよ。

娘：「現金」ではなく、実際の「サービス」で提供するというわけね。

父：例外として、福祉用具の中で、ポータブルトイレやシャワーいすのように、ほかの人が使ったものに抵抗感のある場合は、例外としてその購入のための費用を一定の枠の中で支給するんだ。いずれのサービスを受ける場合も、保険料とは別に一部の自己負担が必要だ。

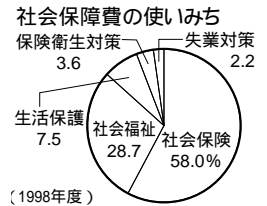
娘：この町で、どんなサービスが受けられるか問い合わせしてみようっと。ところで保険料はいくらかかるの？

父：総費用がはっきりしないので、2000年3月まで確定しないんだよ。

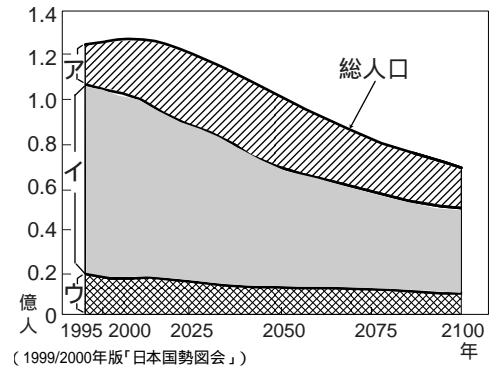
1999年4月3日「朝日新聞」をもとに構成

(1)  に共通してあてはまる制度名を漢字4字で答えよ。

(2)  は社会保障制度の柱の1つである。あてはまる制度を右のグラフの中から1つ選んで答えよ。



(3) —線部Cについて、右のグラフのア～ウは0～12歳、15～64歳、65歳以上のそれぞれの人口の推移と予測を示している。これを見て次の問いに答えなさい。



① 65歳以上の高齢人口が全人口にしめる割合をア～ウから1つ選び、記号で答えよ。

② 約100年後には高齢人口が全人口にしめる割合はどれくらいになるか。次のア～エから1つ選び、記号で答えよ。

- ア 5人に1人      イ 4人に1人  
ウ 3人に1人      エ 2人に1人

(4) ,  それぞれにあてはまるサービスの種類を、次のア～カからそれぞれすべて選び、記号で答えよ。

- ア そうじ・洗濯をする。      イ 髪を洗う。      ウ 買い物をする。  
エ 食事をつくる。      オ おむつ交換をする。  
カ 寝返りのうてない人に床ずれができないように体の向きを変える。

1 \_\_\_\_\_  
2 \_\_\_\_\_

(5)  は  制度の実現に直接かかわっている省庁である。あてはまる省庁名を答えよ。

**18** 【食料輸入，地理】 次の会話文を読み，問いに答えなさい。

夫：今朝もご飯とみそ汁かい。たまにはトーストも食べたいよ。  
妻：ご飯を食べないと，日本の食料自給率が下がっちゃうわ！  
夫：食料自給率って？  
妻：国民に供給された食料のうち，国産がどれだけしめているかを示す割合よ。最も代表的な熱供給量（カロリー）ベースの「供給熱量自給率」は60年度の79%から96年度は42%まで低下し，先進工業国で最低なのよ。  
夫：自給しなくても輸入すればいいじゃないか。  
妻：最近では， 現象などの異常気象で農業生産の変動が大きくなる心配があるわ。それに，国連の予測では，世界の人口が現在の 億人から2025年は80億人に増えるのに対して，農地の拡大には  砂漠化などで制約があるの。発展途上国でも将来は畜産物の需要が増えることを考えると，長い目で見ると世界で食料不足が起こる可能性もあるのよ。  
夫：でも，日本は98年度から過去最大の を始めたほどのコメ余りだよ。  
妻：ところが，コメや麦類，トウモロコシなど基礎的な穀物の重量ベースの自給率を示す「穀物自給率」も，60年度の62%から，96年度は29%に低下しているの。  
夫：コメ余りなのに自給率が下がるって，何でだよ。  
妻：日本人の食生活が大きく変わったからよ。自給率が高いコメの消費が減る一方，畜産物の消費が増え，飼料穀物の輸入が増えているの。パンやめん類の消費が増えたのに小麦の国内生産が減った事情もあるわね。96年度の「品目別自給率」を重量ベースで見ると，小麦は7.5%，畜産物は  牛肉38.7%，豚肉59.3%，鶏肉67.4%，鶏卵は95.9%よ。

夫：卵の自給率は高いんだね。

妻：でも、重量ベースの自給率に飼料自給率をかけ合わせて、純国産部分を供給熱量に換算すると、鶏卵も10.2%よ。ちなみに、牛肉は10.8%、豚肉6.3%、鶏肉7.1%なの。

夫：どうすれば自給率は上がるのかな。

妻：増産で熱供給量自給率を1%引き上げるには、小麦なら作付面積を2倍近く、だれいずなら12倍に増やす必要があるそうよ。

夫：小麦やだれいずは、政府買入れや交付金で政策的に価格を安定させてきたのに、作付面積はのびなかったよね。増産で100%自給は可能なの？

妻：日本の食料を完全自給するには、現在の日本の農地約500万ヘクタールの2.4倍にあたる1200万ヘクタールの農地が新たに必要になるの。せまい国土で1億2000万人が豊かな食生活を続ける限り、完全自給はむりね。

夫：せめて自給率50%に上げるには、食生活をどう変えればいいの。

妻：農水省の試算によれば、コメの消費を96年度に比べて3割増やす一方、牛肉は約3割、豚肉は約6割、鶏肉は約5割にまで減らすの。一人一日あたりの供給熱量はあまり変わらず、食事の脂肪分が減って栄養バランスは良くなるわ。

夫：やはりカギはコメが……。でも、食生活の“矯正”を強制はできないからね。国民の消費ニーズを重視する農業への転換も大事だと思うな。

1998年10月24日「朝日新聞」をもとに構成

(1) [A] は右の資料に示した現象のことである。あてはまる語句を次のア～エから1つ選び、記号で答えよ。

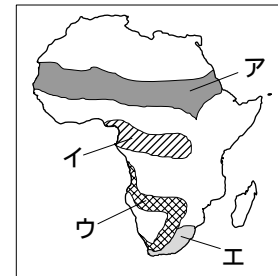
南米のペルーやエクアドルの沿岸沖で、年末のころに海面水温が一時的に高くなる現象。

- ア ヒートアイランド      イ エルニーニョ
- ウ オゾンホール          エ モンスーン

(2) [B] にあてはまる数字を次のア～エから1つ選び、記号で答えよ。

- ア 50      イ 60      ウ 70      エ 80

(3) 線部Cが進行しているサヘルにあたる地域を、右の地図中のア～エから1つ選び、記号で答えよ。



(4) [D] は米の作付面積を減らす政策である。あてはまる語句を答えよ。

(5) 線部Eについて、次の問いに答えよ。

① 線部Eのうち、豚肉・鶏卵の生産量が第1位の都道府県を次のア～エから1つ選び、記号で答えよ。

- ア 北海道      イ 熊本県      ウ 鹿児島県      エ 千葉県

② ①の都道府県において畜産がさかんな地域に広がる、火山噴出物が積もった台地を何というか。

(6) 線部Fについて、右の表は日本・アメリカ合衆国・オーストラリア・ナイジェリアの1人1日あたりの食料供給量を示している。日本にあたるものをア～エから1つ選び、記号で答えよ。

国	穀類	いも類	野菜	肉類	牛乳・乳製品	魚介類
ア	314	173	312	327	698	59
イ	361	97	297	127	188	195
ウ	348	695	127	26	25	16
エ	241	167	228	315	730	54

単位：g（1994～96年平均）

（1999/2000年版「日本国勢図会」）

19【食料輸入，国際政治】 次の記事を読み，問いに答えなさい。

どこへ消えたの輸入米 コメ関税化へ

一九九九年四月からコメの輸入を **A** 化する方針を政府が固めた。しかし，三年前にコメ輸入が始まったときの関心は薄れ，店頭で消費者が輸入米を目にする機会も少ない。輸入されたコメはどこに行ったのか。

世界貿易機関（**B**）における農業協定で，日本はコメの **A** 化を二〇〇〇年度まで猶予されたが，その一方で最低輸入しなくてはならない量（ミニマムアクセス）が定められた。一九九五年度が国内消費の四％にあたる三十七万九〇〇〇トン（精米ベース）以後五年間，毎年〇・八％ずつ増加するきまりで，二〇〇〇年度には八％，七五万八〇〇〇トン（同）に達する。

**A** 化した後もミニマムアクセスは続くが，毎年の上乗せ分は〇・四％に半減する。このため，早めに **A** 化すれば，義務づけられた輸入量がおさえられるとして，九九年度からの **A** 化が議論になった。

東京都品川区のスーパ－のコメ売り場では，国産米にまじり，「エスニック料理用と

書かれたタイ産米が売られている。一袋四百五十グラムと小さな包みだ。六月には，オーストラリア産のコシヒカリもあつかった。コシヒカリは新潟県をはじめ国内各地で生産されている。両国産は「関東産ほどではないが，九州産のコシヒカリと同じくらいのおいしさ」と担当者はいう。とはいえ，あつかえた量はオーストラリア産が三百トン，カリフォルニア産が百トンと少なかった。ご飯向きの外国産米はわずかしが輸入されていない。政府が直接買いつけているのは，中粒，長粒種がほとんどで，「国内の生産に影響をあたえないため」として加工用などに使う。

実は，輸入米の用途でいちばん多いのは，北朝鮮やインドネシアなどコメ不足におちいった国への援助用だ。残りの輸入米は備蓄用もふくめ，今年十月末で約四十二万トンの在庫がある。

1998年12月15日「朝日新聞」より要約

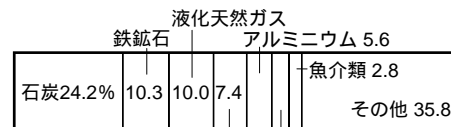
(1) **A** には貿易品にかけられる国税の名称があてはまる。**A** に共通してあてはまる語句を答えよ。

(2) **B** にあてはまる世界貿易機関の略称を次のア～エから1つ選び，記号で答えよ。

ア WTO    イ UNCTAD    ウ WHO    エ ILO

(3) ——線部の4か国について，次の問いに答えよ。

① 右のグラフのように，食料品だけでなく多くの鉱産資源を日本へ輸出している国を選んで答えよ。



(1997年)    肉類    ウッドチップ 3.9  
(1999/2000年版「日本国勢図会」)

② 日本との間に，いまだに国交が開かれていない国を1つ選んで答えよ。

国際社会

20【地域主義】 次の会話文を読み，問いに答えなさい。

和夫：ついに新通貨 **A** が産声を上げたね。

孝史：そうだね。シンボルカラーの青を基調とした紙幣と硬貨が実際に出回るのは2002年1月からだけど，すでに銀行間取引に **A** が使われているし，企業間取引の決済手段としても使用されているよね。

和夫：EU（ヨーロッパ連合）が「連邦」になったようなものだよな。金融政策がEU内で統合されることになるんだ。

孝史：新通貨にまず参加したのは **B** ドイツ，フランス，イタリア，オーストリア，ベルギー，スペイン，アイルランド，ルクセンブルク，オランダ，ポルトガル，フィンランドの計11か国だ。11か国が通貨を統合したことで何が起きるんだろう？

和夫：通貨が統一されるということは，域内では **C** の変動がなくなるということだよ。例えば今まではヨ

ーロッパを旅行する際、常にCレート<sup>りょうがえ</sup>を気にしながら両替<sup>りょうか</sup>をしていたけど、これからは通貨<sup>つうか</sup>が一本化されるのでその心配はないんだ。

孝史：ローマのおみやげをマルクやフランで買える店も増えるんだね。

(1) Aにあてはまる通貨名をカタカナで答えよ。

(2) —線部Bの国々について、次の問いに答えよ。

① 1995年にEU加盟を果たした、最も新しい加盟国を2つ選んで答えよ。

② 「ベネルクス3国」とよばれる国々を選んで答えよ。

(3) Cに共通してあてはまる語句を答えよ。

21【地域主義】 右の記事を読み、問いに答えなさい。

(1) Aに共通してあてはまる語句を答えよ。

(2) —線部Bについて、次の問いに答えよ。

① カンボジアは、かつての植民地とされていたが、第二次世界大戦後に独立を果たした。

に当てはまる国名を答えよ。

② カンボジアでは1991年に13年におよぶ内戦が終わり、国連による統治が行われた。このとき、治安を守って民主的な選挙を実施するために行われた「国連平和維持活動」の略称を答えよ。

③ カンボジアを右の地図中のア～エから1つ選び、記号で答えよ。

(3) —線部Cについて、次の問いに答えよ。

① 東ティモールの位置を右の地図中のa～dから1つ選び、記号で答えよ。

② 東ティモールは1999年にある国から分離して、当面は国連による統治下に入ることになった。これまで東ティモールを統治していた国の名を答えよ。

民主化、各国に違い カンボジア「関与」重く

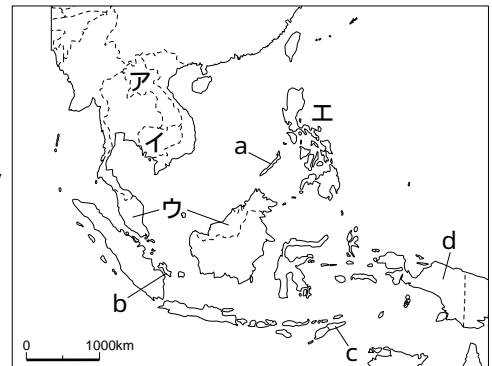
東南アジア諸国連合(ASEAN)は三十日、カンボジアを加えて「ASEAN10」をスタートさせた。東南アジアのすべての国が参加した地域共同体の実現が、民主化問題、経済危機などで各国の立場が微妙に異なってきた社会に活力をあたえるかは未知数のままだ。

A10はかつては「夢」として語られた。各国の指導者たちは、東南アジアが一つにまとまって国際社会に発言していくことに、ASEANのゴールを思い描いてきた。その夢がかなったハノイの式典会場にその熱気はなかった。

Aが抱える課題の大きさが手ばなしの喜びを打ち消

したともいえる。Bカンボジアで再び問題が起きた場合、どのような「関与」ができるのか。首脳会議で懸念された問題は、この四カ月の間、ほとんど話し合われなかった。加盟国になったカンボジアへの「関与」は、内政干渉とこの「A」の原則問題に跳ね返ってくる。仲間に入れたのだから、トラブルは起こしてくるな」というのが、各国の本音ではないか。また首脳会議後に起きたC東ティモールの「独立」問題は、新たな課題を突きつけるかもしれない。

1999年5月1日「朝日新聞」より要約



22 【地域主義】 次の記事を読み、問いに答えなさい。

アジア太平洋経済協力会議首脳宣言 2000年問題で協力へ

オークランドで開かれていたアジア太平洋経済協力会議（A）は十三日、参加二十一カ国・地域の首脳が、「オークランドの挑戦」と題する首脳宣言を採択して閉幕した。アジア経済危機からの脱出を歓迎し、世界貿易機関の新ラウンド（多角的貿易交渉）への支持を表明した。公式会議以外では、日米韓首脳会談などが行われ、米朝協議の進展などを歓迎した。首脳宣言は、アジア経済が危機から脱したことを歓迎、危機の再発を防止し持続的な成長を維持するために、保護主義に抵抗しつつ、規制改革と競争の促進を通じて市場機能を強化することを盛りこんだ。宣言は新ラウンドへ「最大限の強い支持」を打ち出した。

また、B 中国や台湾の世界貿易機関加盟促進も求めた。このほか、C コンピュータ二〇〇〇年問題では、不測の事態に備え、A メンバーで危機管理計画の策定や専門家同士のネットワークづくりを行う、という小淵恵三首相提案の「百日間協力計画」を採択した。

1999年9月13日「朝日新聞」より要約

- (1) A に共通してあてはまる略称を次のア～エから1つ選び、記号で答えよ。  
 ア NAFTA イ OPEC ウ UNICEF エ APEC
- (2) —線部Bの中国と台湾は、現在激しく対立している。この対立の原因を次のア～ウから1つ選び、記号で答えよ。  
 ア ホンコンが中国の一部に組み入れられた。  
 イ 中国は台湾を自国の一部であると主張している。  
 ウ 竹島の領有を双方が主張している。
- (3) —線部Cの問題の原因となることがらを次のア～ウから1つ選び、記号で答えよ。  
 ア 西暦2000年のうちに、多くのコンピュータ会社が倒産するおそれがあるため。  
 イ 西暦2000年1月1日に寿命をむかえる通信衛星が多数あるため。  
 ウ コンピュータの部品の一部が、西暦2000年を1900年と解釈してしまうため。

23 【国際政治】 右の記事を読み、問いに答えなさい。

- (1) 1・2・3 にあてはまる国名の正しい組み合わせを次のア～エから1つ選び、記号で答えよ。  
 ア ポーランド、ポルトガル、オランダ  
 イ ギリシャ、ハンガリー、オーストリア  
 ウ スウェーデン、ルーマニア、スイス  
 エ ポーランド、ハンガリー、チェコ
- (2) A に共通してあてはまる語句を答えよ。
- (3) B に共通してあてはまる、東西両陣営の対立をあらわす語句を、漢字2字で答えよ。

「鉄のカーテン」完全消滅

1、2、3の東欧三カ国は十二日、北大西洋条約機構（A）への加盟文書を米政府に寄託し、正式にAに加盟する。旧共産圏諸国がAの一員となるのは、ドイツ統一で旧東ドイツ地域がAに編入された例外を除けばはじめて。加盟国は十六カ国から十九カ国に増え、四月下旬に創設五十周年を記念してワシントンで開かれるA首脳会議には三カ国大統領が正式メンバーとして初参加し、同盟国の歓迎を受ける。B時代に旧ソ連の脅威に対抗する集団防衛組織として誕生したAは、民族・地域紛争への対応に重点を移した危機管理・安全保障機構に变身。B時代に欧州の東西をへだてた「鉄のカーテン」は名実ともに消滅する。

Aと敵対していた旧ワルシャワ条約機構加盟国からはじめてAに加盟する、1、2、3の三カ国は、B終結後の最優先課題を十年かけて片付けることに成功した。三カ国はこれをはずみとして、もう一つの目標であるEU加盟の早期実現をめざし、真の「B」後体制を確立したい意向だ。

1999年3月11日「朝日新聞」より要約

24 【国際政治】 次の会話文を読み、問いに答えなさい。

信子：今度の主要7か国（G7）とロシアのサミットで「最貧国」の救済がテーマのひとつになるよね。最貧国っていったいどういう国なんでしょう。

好子：簡単に言うと、世界で最も貧しく、重い債務を負っている国々のことなの。外国から多額の政府開発援助（A）などを受けているために、「重債務貧困国」ともよばれるのよ。

信子：世界で何か国くらいなの？

好子：3月現在で世界銀行とIMFが認定したのは、41か国にのぼるの。中東アフリカ地域に多くて34か国もあるよ。そのほか中南米に4か国、アジアには3か国あるのよ。

信子：認定の基準はどうなの？

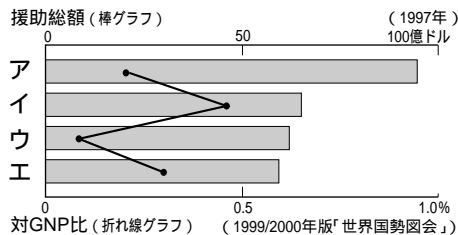
好子：IMFは、一人あたりの国民総生産（GNP）が695ドル（約83000円）以下で、対外債務の合計額がGNPの8割以上の国と規定しているのよ。

信子：もっとも、債務からの「解放」だけでは最貧国の問題は解決しないわね。

好子：そうなのよ。先進工業国による債権放棄を、最貧国の人々の生活の向上にどう結びつけるかが大切ね。そのためには、財政負担が解消された分を、貧困解消や産業開発に有効に振り向けなければならないわね。

1999年6月13日「朝日新聞」より要約

- (1) A にあてはまる略称を答えよ。-----
- (2) 右のグラフはアメリカ合衆国・日本・フランス・ドイツの政府開発援助の金額と、GNPに占める割合をあらわしたものである。日本にあたるものをア～エから1つ選び、記号で答えよ。



- (3) 線部Bは何の略称か。次のア～エから1つ選び、記号で答えよ。-----
- ア 関税と貿易に関する一般協定      イ 国際通貨基金      ウ 世界貿易機関      エ 世界銀行
- (4) 文中に示されたような、先進工業国と発展途上国の間に存在する経済格差をめぐる問題を、まとめて何というか。-----

気候変動枠組み条約の会議で各国の思惑が対立

アルゼンチンで開かれた地球枠組み条約第四回締約国会議(COP4)は今月中旬閉幕したが、問題先送りという評価が目立つ。昨年末のB会議で炭酸ガスなどの制限の目標がきまり、今回は、さらにこれにはずみがかかるといふ期待感から見れば、低調といえるのかもしれない。その後、約一年。確かにB合意に向けた動きがなかったわが去り、実現には相当の痛みがともない、関係国でも声高に叫ばれる理想と現実には大きな開きがあることが浮き彫り

となったのが今回の会議の結果だったといえよう。その一つの問題が先進工業国間のC権取引をめぐるアメリカとEUの対立だった。両者は日本をふくめ、C権取引を認めているのだが、アメリカがこの問題を大部分この方法で解決してしまおうというC権取引至上主義であるのに対し、EUはこれに反対し、アメリカも一定の削減を実現せよという立場に立つ。簡単にいえば、Aガスをいかに出そうとその分(C権)を金で買えばいいということになる。

1998年11月30日「朝日新聞」より要約

25 【地球環境】 右の記事を読み、問いに答えなさい。

- (1) A に共通してあてはまる語句を答えよ。-----
- (2) B に共通してあてはまる日本の都市を次のア～エから1つ選び、記号で答えよ。
- ア 京都      イ 大阪  
ウ 東京      エ 福岡
- (3) C に共通してあてはまる語句を次のア～エから1つ選び、記号で答えよ。
- ア 汚染      イ 公害  
ウ 環境      エ 排出