

2006年実施 社会 新傾向入試問題選

●愛知B●新傾向 次の表は、世界の国々を大陸や州をもとに6地域に分け、それぞれの

地域の面積、人口、穀物生産量、エネルギーの消費量について調べたものである。右下のⅠ、Ⅱのグラフは、表をもとに世界の各地域のようすを調べるために作成したもので、グラフの縦軸、横軸は、各地域の2000年における面積、

地域	面積2000年 (百万km ²)	人口		穀物生産量 2000年(千t)	エネルギーの消費量 2000年(千t)
		1990年(百万人)	2000年(百万人)		
アジア	31.8	3,164	3,672	995,610	2,699,221
アフリカ	30.3	619	794	114,068	286,121
ヨーロッパ	23.0	722	727	385,360	2,455,363
北中アメリカ	24.2	428	487	427,752	2,625,545
南アメリカ	17.8	295	346	104,421	303,956
オセアニア	8.5	26	31	36,311	129,415

(注) この統計では、北中アメリカは、北アメリカ大陸(中央アメリカを含む)の国々およびその近隣の島国で構成され、ロシアはヨーロッパに、トルコはアジアに含まれている。エネルギーの消費量は、石油換算で計算している。

(「世界国勢図会 2004/05年版」などによる)

人口、エネルギーの消費量のいずれかである。Ⅰ

Ⅰ、Ⅱのグラフの対角線上に点線を引き、左上の領域と右下の領域に分け、それぞれ①、②とする。Ⅰ、Ⅱのグラフについて述べた文章として最も適当なものを、次のア～エの中から1つ選び、その記号を書きなさい。

ア Ⅰのグラフは、縦軸を人口、横軸を面積としたもので、①にある地域は、②にある地域より人口密度が低い。

Ⅱのグラフは、縦軸をエネルギーの消費量、横軸を人口としたもので、①にある地域は、②にある地域より一人あたりのエネルギーの消費量が少ない。

イ Ⅰのグラフは、縦軸を人口、横軸を面積としたもので、①にある地域は、②にある地域より人口密度が高い。

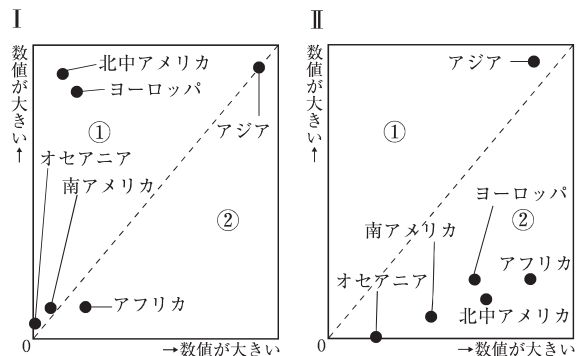
Ⅱのグラフは、縦軸をエネルギーの消費量、横軸を人口としたもので、①にある地域は、②にある地域より一人あたりのエネルギーの消費量が多い。

ウ Ⅰのグラフは、縦軸をエネルギーの消費量、横軸を人口としたもので、①にある地域は、②にある地域より一人あたりのエネルギーの消費量が少ない。

Ⅱのグラフは、縦軸を人口、横軸を面積としたもので、①にある地域は、②にある地域より人口密度が低い。

エ Ⅰのグラフは、縦軸をエネルギーの消費量、横軸を人口としたもので、①にある地域は、②にある地域より一人あたりのエネルギーの消費量が多い。

Ⅱのグラフは、縦軸を人口、横軸を面積としたもので、①にある地域は、②にある地域より人口密度が高い。



2

●秋田● **新傾向** 表を見て、A国の産業において、1982年から2002年までにどのような変化があったと考えられるか、簡潔に書きなさい。また、その根拠を、表の輸出品名と数値を用いて書きなさい。

表 A国の輸出品 (上位5品目)

1982年 (%)	2002年 (%)
原油 74.4	機械類 41.1
石油ガス 2.3	自動車 17.3
機械類 2.2	原油 8.2
魚介類 2.2	衣類 4.8
野菜 1.8	精密機械 3.0
総額 21006百万ドル	総額 160670百万ドル

(「世界国勢図会」2005/06年版などから作成)

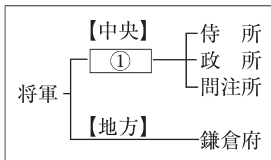
産業 変化にお	
根拠	

3

●岩手● **新傾向** まりさんのクラスでは、社会科の授業で、「武士が活躍した四つの時代」について調べ、その政治の特色を資料を用いて発表しました。次の4人の生徒の発表を見て、下の(1)~(4)の問いに答えなさい。

A時代について発表したまりさん

この図は、**將軍足利義満**のころの**幕府**のしくみを表したものの一部です。義満は幕府に政治の実権を集中させました。



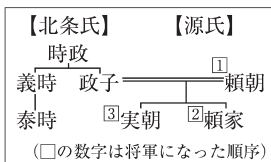
B時代について発表したしょうさん

この法令は、農民の**一揆**を防ぎ、耕作に従事させるために制定されたものです。この時代には、**太閤検地**も行われました。

諸国の百姓が、**刀やわきざし**、**弓**、**やり**、**鉄砲**、そのほかの**武具**などを持つことは、**かたく禁止**する。

C時代について発表したひとしさん

この図は、**源氏將軍家**と**北条氏**の系図を表したものです。將軍**頼朝**の死後は、**北条氏**が政治の実権を握りました。



D時代について発表したゆいさん

この絵は、將軍**徳川家光**のころに幕府によって築かれた人工の島をえがいたものです。家光は、**②**。



(1) **頻出** まりさんが用いた資料中の**①**には、この時代の將軍の**補佐役**の名称が入る。その補佐役の名称を、次の**ア**~**エ**から1つ選び、その記号を書きなさい。

ア 執権 **イ** 管領 **ウ** 関白 **エ** 老中

(2) しょうさんが用いた資料の法令名を何というか。ことばで書きなさい。

(3) 次の**ア**~**エ**のうち、ゆいさんの発表の**②**にあてはまるものを1つ選び、その記号を書きなさい。

ア 朝鮮との国交を復活させ、將軍の代がわりの際に朝鮮から**通信使**が来るようになりました。

イ 外国船を追いはらう方針を決めて、それを批判した蘭学者の**渡辺崋山**らを処罰しました。

ウ 日本人の海外往来を禁止して、中国船とオランダ船のみに**長崎**での貿易を許しました。

エ 宣教師の国外追放を命じましたが、貿易は奨励したので**禁教**は徹底できませんでした。

(4) 4人が発表したA～Dの時代を、時代の古い順に並べ、その記号を書きなさい。

(1)		(2)		(3)		(4)	→ → →
-----	--	-----	--	-----	--	-----	-------

4 ●山梨●**新傾向** わが国の時代を、右の表のようにA～Cの三つのグループに分けた。グループBを、さらに右の二つに分けた。

	時代	区分の仕方
A	縄文, 弥生, 古墳	文化の特徴による区分
B	奈良, 平安, 鎌倉, 室町, 安土桃山, 江戸	政治の中心地による区分
C	明治, 大正, 昭和, 平成	元号による区分

aとbの**ちが**いについて、「政治の**じつけん**実権」という語句を必ず使って書きなさい。

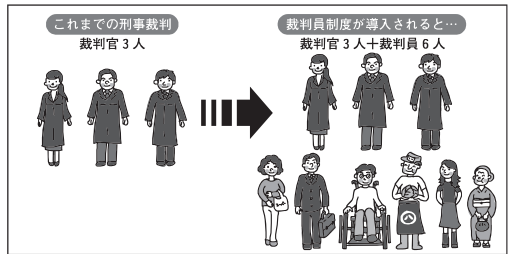
a	奈良 平安	b	鎌倉 室町 安土桃山 江戸
---	----------	---	------------------------

5 ●佐賀●**新傾向** 刑事裁判においては、新しく「裁判員制度」が導入されることになっている。【資料1】と【資料2】はその概要を示したものである。

【資料1】 裁判員制度のしくみ

【資料1】と【資料2】を参考にして、「裁判員制度」が導入される目的として考えられることを簡潔に書きなさい。
【資料2】 現在の刑事裁判と裁判員制度の**ちが**い

- ① 選挙権がある人の中から、くじで裁判員を選ぶ。
- ② 6人の裁判員と3人の裁判官により、裁判を実施する。(裁判員が被告人に質問することもできる。)
- ③ 裁判員と裁判官が議論し、有罪か無罪かを決定する。(有罪の場合は刑の重さも決定)
- ④ 法廷で裁判長が判決を宣告する。



(『最高裁判所 法務省 日本弁護士連合会』パンフレットから作成)

6 ●秋田●**新傾向** 右のカードの内容は、雇用にかかわる法律が改正され、1999年に施行されたときのものである。この法律により、次のような募集は違法となった。どのような点が違法か、書きなさい。

カード

守らない会社にキツイ罰違反すれば名前を公表

- ・男性社員
- ・給与(月給30万円以上)
- 社員募集
- ・休日(土・日曜日, 祝日)
- ・待遇(賞与2回, 交通費支給)