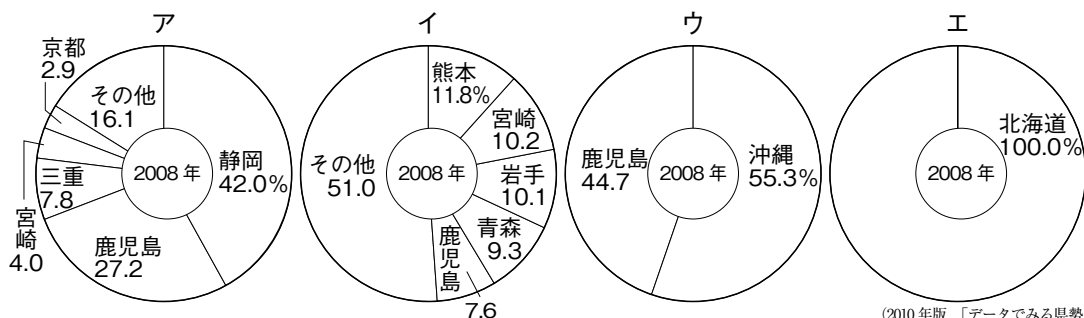


2010年テーマ別時事問題〈経済・国際〉

1 〈2010年の日本経済〉 次の問いに答えなさい。

- (1) 2010年1月19日、経営を悪化させていた日本の航空会社が会社更生法の適用を申請し、戦後最大の負債を抱えた倒産が occurred。この企業の名称をアルファベットで答えなさい。-----
- (2) 2月5日から6日にかけて、G7財務大臣・中央銀行総裁会議がカナダのイカルイトで開催されました。これについて、次の①～③の問いに答えなさい。
- ① この会議に参加した国として誤っているものを、次から1つ選びなさい。-----
- ア イギリス イ ドイツ ウ フランス エ ロシア
- ② 日本の中央銀行の名称を答えなさい。-----
- ③ ②の銀行の仕事として誤っているものを、次から1つ選びなさい。-----
- ア 個人に資金を貸し出す。 イ 紙幣を発行する。
ウ 銀行に資金を貸し出す。 エ 政府の資金を取り扱う。
- (3) 5月27日、の御手洗富士夫会長が退任し、後任に米倉弘昌・住友化学会長が就任しました。にあてはまる組織の名称を答えなさい。-----
- (4) 6月18日、改正された貸金業法が施行され、借りることのできる額の総額に制限が設けられました。この制限の基準として正しいものを、次から1つ選びなさい。-----
- ア 年収の10分の1まで イ 年収の5分の1まで
ウ 年収の3分の1まで エ 年収の2分の1まで
- (5) 9月10日、日本振興銀行が破たんしたことによって、最大1000万円までの預金保護が初めて発動されました。このような預金保護をあらわす語句を、カタカナ4字で答えなさい。-----
- (6) 9月15日、1ドルが15年ぶりに82円台になったことに対して、財務省によって6年ぶりの為替介入が行われました。このとき行われたことについて述べた文として正しいものを、次から1つ選びなさい。
- ア 円売り・ドル買いが行われたことで、円安の方向に是正された。-----
イ 円売り・ドル買いが行われたことで、円高の方向に是正された。
ウ 円買い・ドル売りが行われたことで、円安の方向に是正された。
エ 円買い・ドル売りが行われたことで、円高の方向に是正された。
- (7) 10月1日、ある製品にかけられる税金が増税となったことで、価格が大幅に上がりました。これについて、次の①・②の問いに答えなさい。
- ① この製品の名称を答えなさい。-----
- ② ①の製品の原料の都道府県別生産量割合を示しているグラフを、次から1つ選びなさい。-----



2 〈国際会議の開催〉 次の文章を読んで、あとの問いに答えなさい。

2010年の10月と11月に2つの大きな国際会議が日本で開催されました。

10月11日から29日にかけて、愛知県名古屋市で **a** カルタヘナ議定書第5回締約国会議 (COP/MOP 5) と **b** 生物多様性条約第10回締約国会議 (COP10) が開催され、締約国の政府関係者や **c** 非政府組織などから1万3000人以上が参加しました。閣僚級の会合では日本の **d** 環境大臣が議長をつとめ、最終日には遺伝資源の利用と配分に関するルールを定めた「名古屋議定書」が採択されました。

11月7日から14日にかけては、市で **e** アジア太平洋経済協力会議が開催され、**f** アジア・太平洋地域から21か国(地域)の首脳が参加しました。この会議では、おもに経済協力や **g** 貿易協定に関する話し合いが行われました。

(1) 下線部 **a** について、この議定書は、現代のテクノロジーによって改変された生物が、生物の多様性の保全などに悪影響を及ぼすことを防止するための措置を規定したものです。にあてはまる語句を、カタカナ3字で答えなさい。

(2) 下線部 **b** について、次の①・②の問いに答えなさい。

① この条約は、生物の多様性について既存の国際条約を補完するために結ばれたものですが、既存の国際条約のうち、水鳥の生息地として国際的に重要な湿地の保護を目的として結ばれた条約の名称を答えなさい。

② この条約は1992年に開かれた国連環境開発会議(地球サミット)で調印されましたが、この会議が開かれたブラジルの都市を、次から1つ選びなさい。

ア ブラジリア イ サンパウロ ウ リオデジャネイロ エ マナオス

(3) 下線部 **c** について、政府や国連から独立して活動するこれらの組織の略称を、アルファベットで答えなさい。

(4) 下線部 **d** について、このとき議長を務めた菅内閣の環境大臣を、次から1人選びなさい。

ア 松本龍 イ 鹿野道彦 ウ 馬淵澄夫 エ 大畠章宏

(5) 文中のにあてはまる都市名を答えなさい。

(6) 下線部 **e** の略称を、アルファベットで答えなさい。

(7) 下線部 **f** について、右の地図の○は、この会議に参加した国(地域)を示しています。この会議に参加した国(地域)として誤っているものを、次から1つ選びなさい。

ア マレーシア イ アルゼンチン
ウ フィリピン エ ニューゼーランド



(8) 下線部 **g** について、次の①・②の問いに答えなさい。

① 2か国以上の国によって結ばれる自由貿易協定の略称を、アルファベット3字で答えなさい。

② このような自由貿易協定のうち、2010年10月8日に菅直人首相が環太平洋戦略的経済連携協定(TPP)への参加の検討を指示しましたが、参加推進派と慎重派の対立が起きています。このうち、慎重派が参加をためらっているおもな理由を、簡単に説明しなさい。

3 〈ヨーロッパの経済危機〉 次の文章を読んで、あとの問いに答えなさい。

2009年10月に政権が交代した a ギリシャで、それまでは b 国内総生産 (GDP) に対する赤字の比率が4%と発表されていたものが、実際には13%近くに達していたことが明らかになりました。これに対してEUや c 国際通貨基金、 d 欧州中央銀行が支援策を発表しましたが、ギリシャの国債は価値が暴落し、それにもなってEUの共通通貨である も価値が下がり、世界中に金融不安が広がりました。

ギリシャで財政が悪化した理由としては、労働者に対する公務員の割合が高く、その給与や手当が国の支出で高い割合を占めていることがあげられます。そこで、ギリシャ政府は公務員の賞与廃止や年金給付年齢の引き上げなどの財政再建策を打ち出しましたが、国内の労働者から反対がおり、 e 各地でストライキが発生しました。

ギリシャの財政が破たんした場合、ヨーロッパの他の国が連鎖的に破たんし、世界的な経済危機に発展する可能性があります。そのため、ギリシャを中心として破たんが懸念されている国の頭文字をとり、若干侮蔑的な意味合いも込めて、この危機は f PIGS (豚) 危機とよばれることもあります。

- (1) 下線部 a について、ギリシャの首都で2004年に夏季オリンピックが開催された都市を、次から1つ選びなさい。 -----

ア アンカラ イ アテネ ウ サラエボ エ ブカレスト

- (2) 下線部 b について、国内総生産の説明として正しいものを、次から1つ選びなさい。 -----

- ア 国内総生産とは、一定期間内に国民が得た所得の合計のことである。
 イ 国内総生産とは、一定期間内に国内で生産された金額の合計のことである。
 ウ 国内総生産とは、一定期間内に国内で売買された金額の合計のことである。
 エ 国内総生産とは、一定期間内にある国が行った貿易額の合計のことである。

- (3) 下線部 c について、国際通貨基金の略称を、アルファベット3字で答えなさい。 -----

- (4) 下線部 d について、欧州中央銀行の本店はフランクフルトに置かれていますが、フランクフルトが位置する国を、次から1つ選びなさい。 -----

ア イギリス イ フランス ウ ドイツ エ イタリア

- (5) 文中の について、次の①・②の問いに答えなさい。

① にあてはまる共通通貨の名称を、カタカナで答えなさい。 -----

② EU加盟国で、①の通貨を導入していない国を、次から1つ選びなさい。 -----

ア オランダ イ ベルギー ウ フランス エ イギリス

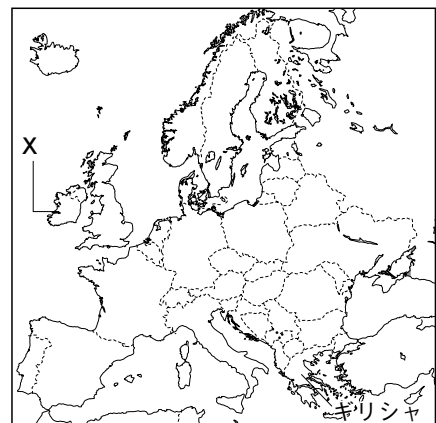
- (6) 下線部 e について、一企業や組織だけでなく、全国的な規模でおこるストライキの名称を、カタカナで答えなさい。 -----

- (7) 下線部 f について、右の地図を見て、次の①・②の問いに答えなさい。

① PIGSとは、ギリシャの他、ポルトガル、スペイン、地図中の X の国をまとめてさす言葉として使われることがありますが、X の国名を答えなさい。 -----

② PIGSの4か国のうち、X以外の3つの国に共通する気候を、次から1つ選びなさい。

- ア 地中海性気候 イ 西岸海洋性気候
 ウ 温暖湿潤気候 -----



4 〈2010年の国際情勢〉 次の問いに答えなさい。

(1) 2010年1月12日、の首都ポルトープランス近郊でおきた地震により、20万人以上もの死者が発生する大惨事となりました。これについて、次の①・②の問いに答えなさい。

① にあてはまる国を、次から1つ選びなさい。

ア ハイチ イ ジャマイカ ウ キューバ エ ドミニカ共和国

② この被害に対して、日本政府は国際連合の平和維持活動に自衛隊を派遣することを決定しましたが、国際連合の平和維持活動の略称を、アルファベット3字で答えなさい。

(2) 2月27日、チリでマグニチュード8.8の地震が発生した影響で、チリが世界最大の産出国である金属の価格が一時急騰しました。この金属を、次から1つ選びなさい。

ア 金 イ 銀 ウ 銅 エ すず

(3) 3月12日、バンクーバーオリンピックと同じ会場で、バンクーバーが開幕しました。にあてはまる、身体障害者を対象としたスポーツ競技大会の名称を答えなさい。

(4) 3月18日、ワシントン条約の締約国会議の委員会で、モナコが提案したある魚の国際商業取引禁止案が否決されました。この議案の対象となっていた魚を、次から1つ選びなさい。

ア ホタルイカ イ ジンベエザメ ウ カツオ エ クロマグロ

(5) 4月10日、タイの首都で治安部隊と反政府派による大規模な衝突が発生し、日本人ジャーナリストを含む21人の死亡が確認されましたが、この衝突がおこった都市名を答えなさい。

(6) 4月14日、エイヤフィヤトラヨークトル氷河の火山が噴火し、ヨーロッパ上空に火山灰が広がった影響で、各国の空港が閉鎖され、国際便の運休が相次ぎました。これについて、次の①・②の問いに答えなさい。

① エイヤフィヤトラヨークトル氷河が位置する国名を答えなさい。

② 火山灰がヨーロッパ上空に広がったのは、この地域で1年を通じて吹く西寄りの風の影響によるものですが、ヨーロッパの西岸でとくに強いこの風の名称を答えなさい。

(7) 4月20日、アメリカ史上最悪の原油流出事故がおこりましたが、事故がおこった湾を、次から1つ選びなさい。

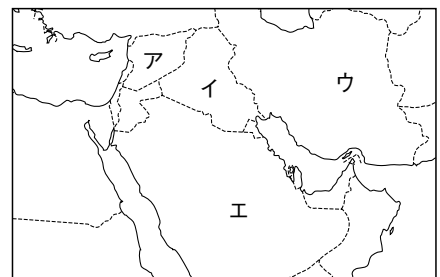
ア アラスカ湾 イ メキシコ湾 ウ ハドソン湾 エ セントローレンス湾

(8) 5月11日、イギリス下院選挙で与党の労働党が敗れ、保守党が政権をになうことになりました。このとき、新たに首相に就任した人物を、次から1人選びなさい。

ア メージャー イ ブラウン ウ キャメロン エ ブレア

(9) 8月16日、内閣府が発表した2010年4～6月期の国内総生産の1次速報値で、日本が世界2位から3位に後退したことが明らかになりました。かわって世界2位となった国名を答えなさい。

(10) 8月19日、イラクに駐留するアメリカ軍の最後の戦闘部隊が撤退しました。イラクの位置を、右の地図中のア～エから1つ選びなさい。



(11) 9月7日、日本の領海内で海上保安庁の巡視船に中国漁船が衝突する事件がおこりました。これについて、次の①・②の問いに答えなさい。

① 事件がおこった付近の島々は日本領ですが、1970年代から中国や台湾が領有権を主張しています。この島々の名前を漢字で答えなさい。

② 事件後、中国から日本への輸出がとだえた鉱産資源を、次から1つ選びなさい。

ア レアアース イ レアメタル ウ 石炭 エ 鉄鉱石