

2011年テーマ別時事問題〈政治〉

1 〈新内閣の発足〉 次の文を読んで、あとの問いに答えなさい。

2011年1月14日、**a**菅直人第二次改造内閣が発足しました。1月24日には**b**国会が召集され、**しよしんのう**所信表明演説（施政方針演説）で**c**税制の改革や**d**社会保障の充実などが発表され、平成23年度**e**国家予算の審議に入りました。

その後、東日本大震災への対応の不備などから6月1日に**f**内閣不信任決議が提出されましたが、翌日には衆議院本会議で決議案は否決されました。

8月26日には「震災対応に一定のめどがついた」として菅首相が辞意を表明すると、8月29日に民主党の代表選挙が行われました。代表選挙は5人が立候補し、決選投票で**g**をやぶった**h**が民主党の代表に当選、8月30日に第95代内閣総理大臣に指名されました。

10月3日、**h**首相は埼玉県**i**市にある国家公務員宿舎の建設予定地を視察し、建設の凍結を安住淳財務大臣に指示しました。また、10月28日には、国家戦略に関する構想を検討するための機関として**j**を発足させました。

- (1) 下線部 **a** について、この内閣では、野党の共同代表を務めていた与謝野馨が経済財政政策等担当大臣として入閣しましたが、与謝野馨が共同代表を務めていた政党を、次から1つ選びなさい。-----
ア 新党改革 イ たちあがれ日本 ウ みんなの党 エ 国民新党
- (2) 下線部 **b** について、このときの国会として適切なものを、次から1つ選びなさい。-----
ア 常会（通常国会） イ 特別会（特別国会） ウ 臨時会（臨時国会） エ 緊急集会
- (3) 下線部 **c** に関連して、間接税の説明としてあてはまるものを、次から1つ選びなさい。-----
ア 税金を納める人と負担する人が同じ税で、代表的なものとして消費税があげられる。
イ 税金を納める人と負担する人が同じ税で、代表的なものとして所得税があげられる。
ウ 税金を納める人と負担する人が異なる税で、代表的なものとして消費税があげられる。
エ 税金を納める人と負担する人が異なる税で、代表的なものとして所得税があげられる。
- (4) 下線部 **d** について、日本の社会保障制度のうち、**こうきふじよ**公的扶助の説明としてあてはまるものを、次から1つ選びなさい。-----
ア 感染症対策や上下水道の整備を行う。 イ 生活が困難な人に生活費などを支給する。
ウ 障がい者や高齢者などの生活を保障する。 エ 掛け金を積み立てておき、必要なときに給付する。
- (5) 下線部 **e** に関連して、15歳以下の子どもを扶養する保護者等に対して金銭を支給する制度が2011年度も実施されることが決定しましたが、この制度の名称を書きなさい。-----
- (6) 下線部 **f** に関連して、このときの内閣不信任案は否決されましたが、仮に内閣不信任案が可決された場合、内閣はどのようにしなければならないか、簡潔に説明しなさい。-----
- (7) **g** にあてはまる人物を、次から1人選びなさい。-----
ア 鹿野道彦 イ 前原誠司 ウ 馬淵澄夫 エ 海江田万里
- (8) 2つの **h** に共通してあてはまる人物名を書きなさい。-----
- (9) **i** にあてはまる都市名を書きなさい。-----
- (10) **j** にあてはまる組織の名称を書きなさい。-----

2 〈原子力発電所事故〉 次の文を読んで、あとの問いに答えなさい。

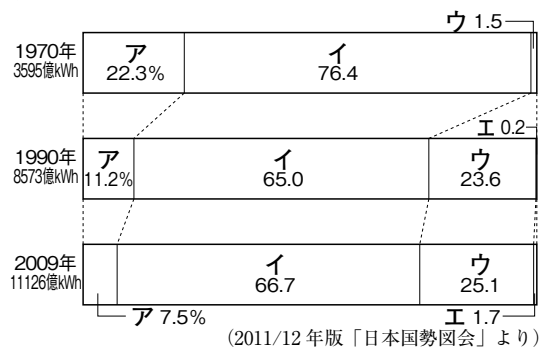
東日本大震災で起こった津波によって、東京電力福島第一発電所で水素爆発をともなう事故が occurred。当初、原子炉自体に損傷はなく、**a** 原子力安全・保安院は **b** 国際原子力機関の基準による事故の評価では、1979年におきた **c** スリーマイル島原発事故と同レベルの「レベル5」と発表しました。しかし、のちに原子炉の内部で **d** 炉心溶融が occurring ことが明らかにされ、事故のレベルは1986年にソビエト連邦（当時。現ウクライナ）で起こった **e** 原発事故以来の「レベル7」に修正され、さらに、暫定的ながらも **e** 原発事故をこえる史上最悪の原発事故と評価されています。

この事故などによって関東地方では電力不足による大規模停電が危惧されたため、3月14日から28日にかけて **f** が実施されました。また、**g** 原子力発電の安全性に対する懸念から各地で原子力発電所の稼働を見直す動きが occurring、5月6日には菅直人首相が **h** 浜岡原発の全面停止を要請し、運転停止が決定されました。いっぽう、福島第一原発の周辺では現在も **i** 放射性物質の放出による汚染が続いており、人々の生活への影響や農産物への被害、さらにはそれにとともなうさまざまな風評被害が occurring います。

- (1) 下線部 **a** について、原子力安全・保安院を管轄する省を、次から1つ選びなさい。 -----
ア 財務省 **イ** 防衛省 **ウ** 文部科学省 **エ** 経済産業省
- (2) 下線部 **b** の略称を、アルファベット4字で書きなさい。 -----
- (3) 下線部 **c** について、スリーマイル島原発がある国を、次から1つ選びなさい。 -----
ア アメリカ合衆国 **イ** フランス **ウ** ブラジル **エ** インド
- (4) 下線部 **d** について、炉心溶融を意味する語句を、カタカナ6字で書きなさい。 -----
- (5) 2つの **e** に共通してあてはまる発電所の名称を、カタカナで書きなさい。 -----
- (6) **f** にあてはまる、一定の地域・時間ごとに電力の供給を停止することを意味する語句を書きなさい。 -----

- (7) 下線部 **g** について、次の①・②の問いに答えなさい。
- ① 右のグラフは、日本の発電源別発電量の割合を示しています。原子力発電にあてはまるものを、グラフ中の **ア** ~ **エ** から1つ選びなさい。 -----
- ② 現在では新しいエネルギーの開発が進められていますが、このような新しいエネルギーのうち、発電用のパネルを設置して発電するエネルギー源の名称を書きなさい。 -----

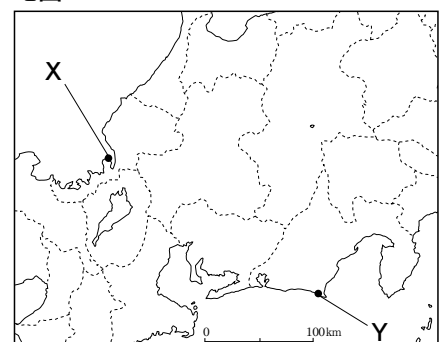
グラフ



- (8) 下線部 **h** について、浜岡原発の説明としてあてはまるものを、次から1つ選びなさい。 -----

- ア** 中部電力が運営し、右の地図中の **X** に位置する発電所である。
イ 中部電力が運営し、右の地図中の **Y** に位置する発電所である。
ウ 関西電力が運営し、右の地図中の **X** に位置する発電所である。
エ 関西電力が運営し、右の地図中の **Y** に位置する発電所である。

地図



- (9) 下線部 **i** について、原子力発電所の事故によって放出されている放射性物質としてあてはまるものを、次から1つ選びなさい。 -----
ア ベント **イ** セシウム **ウ** マイクロシーベルト **エ** ホットスポット

3 〈地方選挙〉 2011年には統一地方選挙が行われるなど、各地で地方公共団体の首長や地方議会議員の選挙が行われました。次の問いに答えなさい。

(1) 地方公共団体のうち、都道府県知事と都道府県議会議員の被選挙権について述べた文として正しいものを、次から1つ選びなさい。

- ア 都道府県知事は30歳以上、都道府県議会議員は25歳以上である。
- イ 都道府県知事は25歳以上、都道府県議会議員は30歳以上である。
- ウ 都道府県知事、都道府県議会議員ともに30歳以上である。
- エ 都道府県知事、都道府県議会議員ともに25歳以上である。

(2) 法律にもとづいて都道府県や市町村が独自に定める決まりを何というか、書きなさい。


(3) 2月6日、名古屋市市長選挙と愛知県知事選挙が同時に行われました。これについて、次の①・②の問いに答えなさい。

① 名古屋市市長選挙で再選をはたした河村たかしを代表とする政党である減税日本は、市民税の恒久的な %減税を公約として掲げています。 にあてはまる数字を、次から1つ選びなさい。

- ア 5 イ 10 ウ 20 エ 40

② 愛知県知事選挙では、河村たかしと連携した大村秀章が初当選をはたしましたが、大村秀章が以前に所属していた政党を、次から1つ選びなさい。

- ア 民主党 イ みんなの党 ウ 日本共産党 エ 自由民主党

(4) 右の地図の  は、4月10日に知事選挙が行われた都道府県を示しています。このときに選挙が行われた県を、次から1つ選びなさい。

地図



- ア 茨城県 イ 和歌山県
- ウ 徳島県 エ 熊本県

(5) 4月10日には、東京都知事選挙も行われました。これについて、次の①・②の問いに答えなさい。

① このときの東京都知事選で4度目の当選をはたした人物名を書きなさい。

② このときの東京都知事選で当選をはたせず、次点に終わった前宮崎県知事を、次から1人選びなさい。

- ア 猪瀬直樹 イ 松沢成文
- ウ 東国原英夫 エ 渡邊美樹

(6) 11月27日、大阪市長選挙と大阪府知事選挙が同時に行われました。これについて、次の①～③の問いに答えなさい。

① 大阪府知事を辞職後、大阪市長選挙に立候補して当選をはたした人物名を書きなさい。

② 大阪府知事選では、①の人物が代表を務める政党の幹事長である松井一郎が当選をはたしました。この政党の名称を書きなさい。

③ ②の政党では、政令指定都市である大阪市や 市とその周辺の都市を再編し、新たに特別区を設置して一体化させる「大阪都構想」を発表しています。 にあてはまる都市名を書きなさい。

4 〈政治の動き〉 右の表は、2011年におこったおもなできごとを示しています。表を見て、次の問いに答えなさい。

(1) 表中の a について、この選挙は前年12月のリコールにともなう出直し市長選挙で、新人の西平良将が前職の竹原信一をおさえて当選しました。これについて、次の①・②の問いに答えなさい。

表

月 日	おもなできごと
1月16日	鹿児島県〔 〕で市長選挙が行われる …… a
1月31日	小沢一郎民主党元代表が強制起訴される …… b
3月23日	議員定数訴訟で最高裁の判決が出される …… c
5月24日	布川事件の再審で無罪判決が出される …… d
6月19日	高速道路通行料の社会実験が終了する …… e
11月5日	西岡武夫が死去する …… f

① 〔 〕にあてはまる都市名を、次から1つ選びなさい。

- ア 水俣市 イ 阿久根市
ウ 薩摩川内市 エ 都城市

② リコールとは首長の解職請求のことで住民の直接請求権にふくまれます。首長の解職を請求するのに必要な署名の数は、有権者の何分の1以上か、書きなさい。

(2) 表中の b では、事件を起訴しなかったことについて、国民から選ばれたメンバーがよしあしを判断する機関によって、「起訴相当」の議決が出されたために強制起訴がされました。この機関の名称を書きなさい。

(3) 表中の c は、2009年に行われた第45回衆議院議員選挙における「一票の格差」に関する裁判です。これについて、次の①・②の問いに答えなさい。

資料

① この裁判は、有権者が投じる票の価値に格差があることは日本国憲法に違反しているとして各地で行われたもので、右の資料は、該当する憲法の条文を示しています。〔 〕にあてはまる数字を、次から1つ選びなさい。

第〔 〕条① すべて国民は、法の下に平等であって、人種、信条、性別、社会的身分又は門地により、政治的、経済的又は社会的関係において、差別されない。

- ア 9 イ 14 ウ 25 エ 28

② この裁判では、一票の価値に最大で2.3倍の格差があることが違憲状態であるという判決を出しましたが、この裁判のように法律や国の行為が憲法に違反していないかどうかを裁判所が審査する権限を何というか、書きなさい。

(4) 表中の d について、次の①・②の問いに答えなさい。

① このような刑事裁判で被疑者を被告人として裁判所に起訴する人を、次から1つ選びなさい。

ア 警察官 イ 書記官 ウ 検察官 エ 傍聴人

② この事件では2人の被告人の無期懲役が裁判で確定した後、裁判の内容に重大な誤りが認められたために再審が行われましたが、無実の罪で逮捕、収監されることを何というか、書きなさい。

③ ②のような事態やいきすぎた捜査を防ぐため、日本弁護士連合会（日弁連）などによって実現が求められている内容を、「全過程」の語句を用いて、簡潔に説明しなさい。

(5) 表中の e について、この実験では土曜・休日の高速道路通行料の上限を〔 〕円にしていました。〔 〕にあてはまる数字を、次から1つ選びなさい。

- ア 100 イ 500 ウ 1000 エ 2000

(6) 表中の f について、西岡武夫が務めていた役職を、次から1つ選びなさい。

- ア 最高裁判所長官 イ 宮内庁長官 ウ 衆議院議長 エ 参議院議長