



2013年テーマ別時事問題〈経済・国際〉



1 〈2013年の日本経済〉 次の問いに答えなさい。

- (1) 1月1日、東日本大震災からの復興対策に必要な財源を確保するために、所得税や法人税などに対して、復興特別税が課されることになりました。これについて、次の問いに答えなさい。

- ① 所得税や法人税の説明としてあてはまるものを、次から1つ選びなさい。 -----

ア 直接税で国税である。 イ 直接税で地方税である。
ウ 間接税で国税である。 エ 間接税で地方税である。


- ② 復興特別所得税においては、通常の所得税額に対して一律で2.1%の税金が課されます。これに対して、通常の所得税は人によって税率が異なりますが、どのように税率が決められているか、制度の名称を用いて、簡単に説明しなさい。
-

- (2) 1月27日、厚生労働省は、近年の経済状況等を踏まえ、生活保護費のうち食費・光熱費などを今後3年かけて計670億円削減すると発表しました。これについて、次の問いに答えなさい。

- ① 日本の社会保障制度のうち、生活保護が含まれるものを、次から1つ選びなさい。 -----

ア 社会保険 イ 公的扶助 ウ 社会福祉 エ 公衆衛生

- ② 右のグラフは、国の歳出の内訳を示しています。社会保障関係費にあてはまるものを、グラフのA～Eから1つ選びなさい。



- (3) 2月28日、白川方明^{しらかわまさあき}総裁の後任として、黒田東彦^{くろだ はるひこ}アジア開発銀行総裁を候補とする人事案が政府から衆参の議院運営委員会理事会に提示されました。これについて、次の問いに答えなさい。

- ① にあてはまる、日本の中央銀行の名称を書きなさい。 -----

- ② アジア開発銀行は、アジア・太平洋地域における経済成長及び経済協力を助長し、開発途上加盟国の経済発展に貢献することを目的に設立された国際開発金融機関です。しかし、アジア開発銀行が開発途上国で行う大型開発プロジェクトには、現地に環境面・社会面に負の影響をあたえているという主張も一部からあります。こうした主張を行っている、民間人や民間団体でつくる非政府組織の略称を、アルファベット3字で書きなさい。
-

- (4) 8月5日、国際通貨基金は2013年の日本経済に関する年次審査報告書で、景気の見通しが著しく改善していると評価しました。これについて、次の問いに答えなさい。

- ① 国際通貨基金の略称を、アルファベット3字で書きなさい。 -----

- ② この評価の内容としてあてはまるものを、次から1つ選びなさい。 -----

ア インフレーションの状態を加速させた。 イ デフレーションの状態を加速させた。
ウ インフレーションの状態を抑制した。 エ デフレーションの状態を抑制した。

- (5) 8月9日、財務省は6月末時点で国の借金が兆円の大口を突破したと発表しました。これについて、次の問いに答えなさい。

- ① にあてはまる数字を、次から1つ選びなさい。 -----

ア 100 イ 500 ウ 1000 エ 5000

- ② 2013年の国の歳入において、借金（公債金）が占めるおよその割合を、次から1つ選びなさい。

ア 約1割 イ 約3割 ウ 約5割 エ 約7割

2 〈2013年に行われた国際会議、締結された条約〉 次の問いに答えなさい。

- (1) 3月15日、安倍晋三^{あべしんぞう}首相は、環太平洋地域の国々による経済の自由化を目的とした多角的な経済連携協定である□への交渉参加を表明しました。これについて、次の問いに答えなさい。

① □にあてはまる語句を、アルファベット3字で書きなさい。-----

② この経済連携協定に参加している国としてあてはまらないものを、次から1つ選びなさい。

ア アメリカ合衆国 イ 中国 ウ ニュージーランド エ シンガポール -----

- (2) 6月1日から3日にかけて、横浜市で第5回アフリカ開発会議が開催されました。これについて、次の問いに答えなさい。

① この会議には、日本のほか、アフリカの51か国などが参加しましたが、アフリカ諸国のほとんどが加盟しているアフリカ連合の略称を、アルファベット2字で書きなさい。-----

② この会議に合わせて、アフリカでの感染症等の対策の推進に尽力し、人類の繁栄や世界の平和に貢献した人に対する、ある賞の授賞式が行われました。この賞には、アフリカで黄熱病の研究を行った人物の名前がつけられていますが、その人物を、次から1人選びなさい。-----

ア 北里柴三郎^{きたさとしばさぶろう} イ 高峰譲吉^{たかみねじょうきち} ウ 志賀潔^{しがきよし} エ 野口英世^{のぐちひでよ} -----

- (3) 6月12日、国際的な子の奪取の民事面に関する条約（ハーグ条約）に加盟するための国内手続法が成立し、10月22日には、政府が2014年に正式に加盟する方針を固めました。この条約の説明としてあてはまるものを、次から1つ選びなさい。-----

ア 子どもが外国で誘拐^{ゆうかい}されたときの扱いを定めた条約である。

イ 両親と子どもが別々の国に住むときの扱いを定めた条約である。

ウ 国際結婚^{はたん}が破綻したときの子どもの扱いを定めた条約である。

エ 異なる国どうしの両親の間に生まれた子どもの扱いを定めた条約である。

- (4) 6月15日から16日にかけて、安倍晋三首相はポーランドを訪問し、ヴィシエグラド4か国（V4）とよばれる中央ヨーロッパの地域協力機構の首脳と初の会談を行いました。右の地図は、V4の4か国を示していますが、ポーランド以外の加盟国として誤っているものを、次から1つ選びなさい。-----

ア デンマーク イ スロバキア ウ ハンガリー エ チェコ -----



- (5) 6月22日、国連教育科学文化機関の世界遺産委員会は、□の世界文化遺産への登録を決定しました。これについて、次の①・②の問いに答えなさい。

① 国連教育科学文化機関の略称を書きなさい。-----

② □にあてはまる日本の山の名称を書きなさい。-----

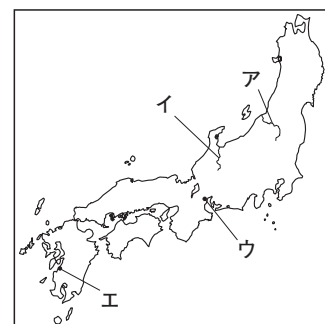
- (6) 10月9日から11日にかけて国連環境計画の主催による会議が行われ、19日には水銀を使った製品の製造を規制する条約の採択・署名が行われました。これについて、次の問いに答えなさい。

① この条約には、四大公害のひとつに数えられた公害病の名前がつけられています。その病名を書きなさい。また、この公害病が最初におこった地域を、右の地図のA～Eから1つ選びなさい。

病名----- 記号-----

② ①の公害病はその後、別の地域でも確認され、この地域での公害病も四大公害のひとつに数えられました。この公害病がおこった河川の流域としてあてはまるものを、次から1つ選びなさい。-----

ア 神通川流域^{じんづうがわ} イ 阿賀野川流域^{あがの} ウ 筑後川流域^{ちくご} エ 利根川流域^{とね} -----



3 〈2013年の国際情勢①〉 右の地図を見て、次の問いに答えなさい。

- (1) 地図中の **A** の国では、1月16日に武装勢力によって天然ガスの精製プラントが襲撃され、その後、日本人を含む多くの外国人の人質がなくなるといふ事件がありました。この事件は、1月11日に地図中の **B** の国に対して軍事介入が行われたこと



とに対する反発で起こったと見られていますが、地図中の **A** と **B** の国をかつて植民地として支配し、1月11日に **B** の国に軍事介入を行ったヨーロッパの国名を、次から1つ選びなさい。

ア イギリス イ ドイツ ウ フランス エ イタリア

- (2) 地図中の **C** の国では、7月3日にムハンマド・ムルシー大統領が軍によって大統領の権限をはく奪されました。ムルシー大統領は、それまで30年にわたって続いていたムバラク大統領に代わって、選挙によって選ばれた初の□の大統領でしたが、政権はわずか1年程で崩壊してしまいました。□にあてはまる、軍人ではないものという意味で、日本国憲法においても内閣総理大臣や国務大臣の条件とされている語句を、漢字2字で書きなさい。

- (3) 地図中の **D** の国では、2月12日に地下核実験が行われました。これに対し、日本をはじめとする各国から非難の声があがり、原子力の平和利用を促進する国際連合傘下の機関からも、深い遺憾の意が表明されました。この機関の名称を書きなさい。

- (4) 地図中の **E** の国について、次の問いに答えなさい。

① 4月15日、**E** の国のある都市で行われていたマラソン大会で爆発事件がおり、多くの犠牲者が出ました。この事件の犯人は、ロシア連邦からの独立を求めるある国の出自であるということで、**E** の国では、この国への関心が一時期高まりました。この国を、次から1つ選びなさい。

ア チェチェン共和国 イ 北オセチア共和国 ウ アゼルバイジャン共和国 エ サハ共和国

② 7月18日、**E** の国のデトロイト市が連邦破産法9条の適用を申請し、財政破綻しました。デトロイト市は、ある工業製品の生産がさかんで、関連する大企業の本社などが置かれている工業都市ですが、この工業製品の名称を書きなさい。

③ 8月28日、**E** の国でかつて黒人公民権運動の指導者だった人物が、有名な演説をしてから50周年をむかえ、記念式典が行われました。この人物を、次から1人選びなさい。

ア マンデラ イ ガンディー ウ オバマ エ キング牧師

- (5) 地図中の **F** の国では、3月5日に現職のウゴ・チャベス大統領がなくなりました。この国は、ある鉱産資源の生産量が多く、大きな財源となっていますが、その鉱産資源を、次から1つ選びなさい。

ア 天然ガス イ 原油 ウ 石炭 エ 鉄鉱石

- (6) 地図中の **G** の国では、公共料金の値上げなどに反対するデモが6月におこり、そのデモが、翌年に開催されるイベントへの反対運動にも発展していきました。**G** の国で2014年に開催予定のイベントの名称を書きなさい。

4 〈2013年の国際情勢②〉 次の問いに答えなさい。

- (1) 2月25日、韓国で初の女性大統領が就任式を行いました。この人物を、次から1人選びなさい。

ア キム デ ジョン 金大中 イ ノ ム ヒョン 盧武鉉 ウ イ ミョン バク 李明博 エ パク ク ネ 朴槿恵

- (2) 3月11日、北朝鮮人民軍最高司令部の報道官は、ある戦争の休戦協定の破棄を宣言しました。この戦争の名称を書きなさい。

- (3) 4月20日、中国内陸部の四川省雅安市芦山県でマグニチュード7.0の地震がおり、多くの死傷者が発生しました。この地域では2008年にも大きな地震によって甚大な被害を受けていますが、この地域で大きな地震が発生しやすい理由を、「ヒマラヤ」の語句を用いて、簡単に説明しなさい。

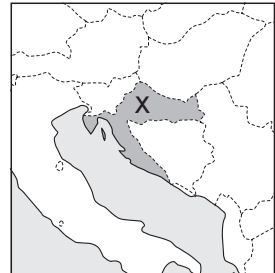
- (4) 7月1日、右の地図中のXの国がE U（欧州連合）に加盟しました。これについて、次の問いに答えなさい。

- ① Xの国名を、次から1つ選びなさい。

ア セルビア イ クロアチア ウ オーストリア エ ルーマニア

- ② Xの国の加盟によって、E U（欧州連合）の加盟国数はいくつになりましたか、数字を書きなさい。

か国



- ③ 右の表のA～Eは、E U（欧州連合）、日本、アメリカ合衆国、中国のいずれかの統計を示しています。このうち、E U（欧州連合）にあてはまるものを、1つ選びなさい。なお、E U（欧州連合）の統計は、Xの国が加盟する前のものであり、Xの国の数値を含んでいません。

| | 面積 (千km ²) | 人口 (百万人) | 輸出額 (億ドル) | 輸入額 (億ドル) |
|---|---------------------------|-------------|--------------|--------------|
| A | 4324 | 503 | 58977 | 60205 |
| I | 9597 | 1368 | 18992 | 17429 |
| U | 9629 | 313 | 14804 | 22654 |
| E | 378 | 127 | 8226 | 8541 |

(2011年)

(2013/14年版「世界国勢国会」などより)

- (5) 9月27日、アメリカのオバマ大統領は、のロウハニ大統領と電話会談を行いました。核開発疑惑の問題などで長年アメリカとの対立が続いていたの大統領がアメリカの大統領と会談を行うのは34年ぶりで、対立の解消への期待も出ています。にあてはまる国を、次から1つ選びなさい。

ア パキスタン イ アフガニスタン ウ イラン エ イラク

- (6) 10月1日、アメリカでは上院議会での2大政党の対立などから、予算案が成立せず、17日にはアメリカが借入金の債務不履行に追い込まれる可能性が生じましたが、直前に関連法が成立、債務不履行は回避されました。アメリカで債務不履行がおこると世界的な恐慌を引き起こす恐れもありましたが、この債務不履行を何というか、次から1つ選びなさい。

ア キャンセル イ リコール ウ クーリングオフ エ デフォルト

- (7) 10月18日、国連安全保障理事会の非常任理事国に選出されたサウジアラビアが、就任の辞退を発表しました。これについて、次の問いに答えなさい。

- ① 安全保障理事会の非常任理事国についての説明としてあてはまるものを、次から1つ選びなさい。

A 5か国で構成され、任期は2年である。日本は非常任理事国に選出されたことがない。

I 5か国で構成され、任期は2年である。日本は非常任理事国に選出されたことがある。

U 10か国で構成され、任期は2年である。日本は非常任理事国に選出されたことがない。

E 10か国で構成され、任期は2年である。日本は非常任理事国に選出されたことがある。

- ② 安全保障理事会の常任理事国には、非常任理事国と異なり、一国でも反対すると採択できなくなる権限があたえられています。この権限の名称を書きなさい。