



2013年テーマ別時事問題<3分野融合>



1 〈ワールド・ベースボール・クラシックの開催〉右の表は、「2013ワールド・ベースボール・クラシック」本大会の出場国・地域と第1ラウンドの組み合わせを示しており、表中の○は第2ラウンドに進出した国・地域、◎は準決勝に進出した国・地域を示しています。次の問いに答えなさい。

(1) 近年、経済成長が著しいBRICsにふくまれる国は、表中に何か国あるか、数字を書きなさい。 _____ か国

A組	B組	C組	D組
◎日本	韓国	ベネズエラ	○アメリカ合衆国
○キューバ	◎オランダ	◎プエルトリコ	メキシコ
中国	オーストラリア	◎ドミニカ共和国	○イタリア
ブラジル	○チャイニーズタイペイ	スペイン	カナダ

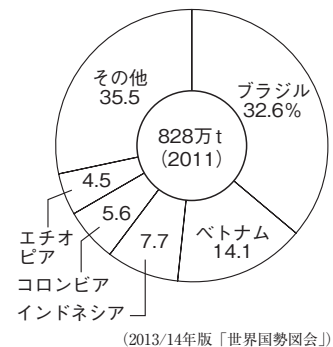
(2) 日本の初戦の相手であったブラジルについて、次の問いに答えなさい。

① ブラジルの国内には、流域面積が世界で最大の河川が流れています。この河川の名称を書きなさい。 _____

② 右のグラフは、ブラジルで生産がさかんなある農産物の国別生産割合を示しています。この農産物を、次から1つ選びなさい。 _____

ア コーヒー豆 イ カカオ ウ 綿花 エ 大豆

③ 近年、ブラジルではさとうきびやとうもろこしなどの植物を燃料としてつくられる _____ 燃料の開発が進んでいます。 _____ にあてはまる語句を、カタカナ3字で書きなさい。 _____



(3) D組の国のうち、イタリアをのぞく3か国は、経済の活性化などを目的として北米自由貿易協定を結んでいます。この協定の略称を、アルファベットで書きなさい。 _____

(4) 右の地図は、第2ラウンドに進出した国・地域の多くが位置する西インド諸島を示したものです。地図を見て、次の問いに答えなさい。



① 西インド諸島は、世界の三大洋の1つに面しています。その海洋の名称を書きなさい。 _____

② 近年、アメリカ合衆国では、西インド諸島などから移り住むヒスパニックとよばれる人々が増えていますが、彼らがおもに話す言葉としてあてはまるものを、次から1つ選びなさい。 _____

ア ポルトガル語 イ スペイン語 ウ オランダ語 エ イタリア語

③ 1492年に西インド諸島に到達した人物としてあてはまるものを、次から1人選びなさい。 _____

ア マゼラン イ ルター ウ バスコ・ダ・ガマ エ コロンブス

(5) 日本が準決勝で対戦したプエルトリコは、アメリカ合衆国の自治領という扱いであり、日本をはじめとする各国から、国家として承認されていません。国際社会において国家（独立国）とみなされるためには、領土・国民・ _____ の3つの条件を満たす必要がありますが、 _____ にあてはまる語句を、漢字2字で書きなさい。 _____

(6) 表から読みとれる内容としてあてはまるものを、次から1つ選びなさい。 _____

- ア A組の4か国・地域のうち、面積が最も大きいのはブラジルである。
- イ B組の4か国・地域の中に、キリスト教の信者が多い国・地域がある。
- ウ C組の4か国・地域のうち、アジア州に属する国・地域が1つある。
- エ D組の4か国・地域のうち、準決勝に進んだ国・地域が1つある。

2 〈東京オリンピック開催の決定〉 次の文を読んで、あとの問いに答えなさい。

2013年9月、**a** ブエノスアイレスで開かれたI O C (国際オリンピック委員会)の総会で、2020年の夏季オリンピック開催地が東京に決定しました。東京でオリンピックが開催されるのは、**b** 1964年大会に次いで2回目で、**c** アジアの都市では4回目の開催となります。

最終候補に残っていたのは**d** 東京、イスタンブール(トルコ)、マドリード(スペイン)の3都市で、1回目の投票で東京が単独で1位となり、最終投票で東京がイスタンブールをやぶり、開催が決定しました。東京は他の都市に比べて財政面が安定していること、治安が良いことなどが高評価になりました。

いっぽう、敗れたイスタンブールは、開催が決定すれば**e**を信仰する人が多い国での初の開催となることなどで注目されましたが、隣国の**f**での内戦が大規模な軍事衝突につながるのではないかという懸念や、国際大会開催の経験不足などから、実現に至りませんでした。また、マドリードは、同じ**g**を共通通貨とする**h**ローマ(イタリア)が立候補を取り下げたことなど、財政難に見舞われていることなどが評価を下げた原因となったようです。

(1) 下線部**a**について、次の問いに答えなさい。

① ブエノスアイレスを首都とする国名を書きなさい。-----

② この決定は、日本時間の9月8日午前5時ごろに発表されましたが、このときのブエノスアイレスの現地時間として正しいものを、次から1つ選びなさい。なお、ブエノスアイレスは西経45度の経線を標準時子午線としているものとします。-----

ア 9月7日午後5時 イ 9月7日午後11時 ウ 9月8日午前11時 エ 9月8日午後5時

(2) 下線部**b**について、次の問いに答えなさい。

① この年におこったできごととしてあてはまるものを、次から1つ選びなさい。-----

ア ベルリンの壁が崩壊した。 イ 沖縄が日本に返還された。
ウ 東海道新幹線が開通した。 エ 日本が国際連合に加盟した。

② このころの日本経済は、年平均で10%ほどの成長を続けていましたが、この経済成長のことを何というか、書きなさい。-----

③ 東京での初めての夏季オリンピックは1964年に開催されましたが、それ以前の1940年にも東京でオリンピックが開催される予定でした。このときのオリンピックは開催権が返上され中止となりましたが、中止となった理由を、当時の世界情勢と関連させ、簡単に説明しなさい。

(3) 下線部**c**について、アジアでの夏季オリンピックは東京のほか、**韓国**の首都と**中国**の首都で開催されました。それぞれの都市名を書きなさい。

韓国の首都 _____ 中国の首都 _____

	人口密度 (人/km ²)	一人あたり 国民総所得 (ドル)
ア	92	31178
イ	94	10488
ウ	342	48084

(2011年) (2013/14年版「世界国勢図会」より)

(4) 下線部**d**について、右の表は、3都市が属する国の統計をまとめたものです。それぞれの国にあてはまるものを、表の**ア**~**ウ**から1つずつ選びなさい。

東京 _____ イスタンブール _____ マドリード _____

(5) **e**にあてはまる宗教の名称を書きなさい。-----

(6) **f**にあてはまる国を、次から1つ選びなさい。-----

ア サウジアラビア イ シリア ウ リビア エ エジプト

(7) **g**にあてはまる、EU(欧州連合)加盟国の共通通貨の名称を書きなさい。-----

(8) 下線部**h**について、ローマ市内にある、面積が世界最小の国名を書きなさい。-----

3 〈歴史的なできごと〉 次の問いに答えなさい。

(1) 2013年は、江戸幕府最後の将軍であった徳川慶喜とくがわよしのぶの没後100年にあたります。これについて、次の問いに答えなさい。

① 江戸幕府第15代将軍の徳川慶喜が政権を朝廷に返したできごとを何といいますか、書きなさい。

② ①のできごとのあとに出された、天皇を中心とする政治に戻すという内容の、朝廷によって出された宣言を何といいますか、書きなさい。

③ 徳川慶喜が政権を朝廷に返してから、徳川慶喜がなくなるまでの次のア～エのできごとを、年代の古い順に並べなさい。

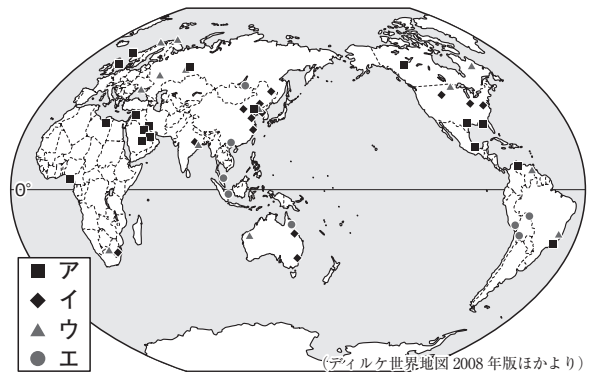
- ア スンウエン 孫文そんぶんを中心にして辛亥革命がおこった。 イ いとうひろぶみ 伊藤博文が初代内閣総理大臣となった。
ウ 鹿児島かごしまの士族らが西南戦争をおこした。 エ 朝鮮半島をめぐって日清戦争がおこった。

(2) 2013年は、石油危機(オイル・ショック)がおこってから40年にあたります。これについて、次の問いに答えなさい。

① 石油危機の直接のきっかけとなったできごとを、次から1つ選びなさい。

- ア 北朝鮮の軍が南下して韓国に攻めこみ、朝鮮戦争が始まった。
イ 東ヨーロッパの国々で民主化が進んだ影響などで、ソ連が解体した。
ウ イスラエルとアラブ諸国の対立から、第四次中東戦争がおこった。
エ 同時多発テロに対して、アメリカがアフガニスタンを攻撃した。

② 右の地図は、おもな鉱産資源こうさんしげんの分布を示しています。石油の分布にあてはまるものを、凡例のア～エから1つ選びなさい。



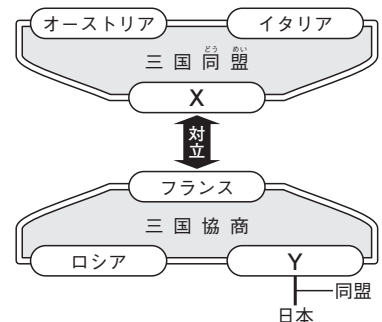
③ 石油危機は世界的な不況をもたらし、これに対して、重要な国際問題を話し合う場として、1975年に第1回先進国首脳会議が開かれ、以後、毎年開催されています。この先進国首脳会議の略称を、カタカナ4字で書きなさい。

(3) 2014年は、第一次世界大戦が始まってから100年にあたります。これについて、次の問いに答えなさい。

① 第一次世界大戦がおこる直接のきっかけとなった事件について、「オーストリア」、「セルビア」の語句を用いて、簡単に説明しなさい。

② 右の資料は、第一次世界大戦前の国際関係を示したものです。資料中の **X**、**Y** にあてはまる国名を、それぞれ書きなさい。

X _____ Y _____



③ 第一次世界大戦に参戦した日本は、1915年に中国に対して、満州の権益を借りる期限の延長などを要求し、その大部分を認めさせました。この要求の名称を書きなさい。

④ 第一次世界大戦の講和条約の名称を書きなさい。また、講和条約締結後に国際連盟の設立を提唱した人物を、次から1人選びなさい。

- ア ウィルソン イ ガンディー ウ レーニン エ にとべいなぞう 新渡戸稲造

名称 _____
記号 _____

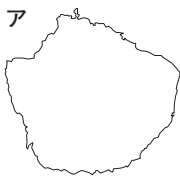
4 〈2013年のできごと〉 次の問いに答えなさい。

(1) 2月、大相撲の元横綱大鵬の故 納谷幸喜氏に「広く国民に敬愛され、社会に明るい希望をあたえることと顕著な業績があった」としてある賞の授与が決定しました。また、5月には、元プロ野球選手の長嶋茂雄氏、松井秀喜氏にこの賞が授与されました。過去にもスポーツ選手や歌手、俳優など、さまざまな分野で活躍した人物に、内閣総理大臣から授与されているこの賞の名称を書きなさい。

(2) 3月30日、松江自動車道が全線開通しましたが、松江市を県庁所在地とする県名を書きなさい。

(3) 4月13日、淡路島を中心とする地域で、最大震度6弱を記録する地震が発生しました。これについて、次の問いに答えなさい。

① 淡路島の形としてあてはまるものを、次から1つ選びなさい。



※縮尺はそろえていません

② 淡路島が位置する県に関連するできごととしてあてはまるものを、次から1つ選びなさい。

- ア かつて琉球王国が栄えていた。 イ 江戸時代に出島がつけられた。
 ウ 日本で最初に鉄砲が伝えられた。 エ 幕末の条約で開港地とされた。

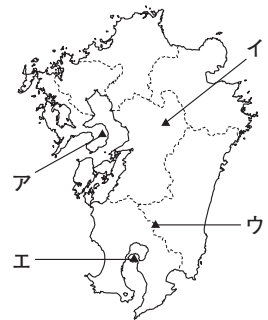
③ 淡路島では、1995年にも地震が発生し、周辺地域に大きな被害をもたらしました。この震災の名称を書きなさい。

(4) 4月28日、政府主催による主権回復・国際社会復帰記念式典が行われました。この式典は、第二次世界大戦の講和条約発効から61周年を記念したものですが、この講和条約の名称を書きなさい。また、この講和条約が結ばれた会議の全権であった人物を、次から1人選びなさい。 名称 _____

- ア 犬養毅 イ 吉田茂 ウ 岸信介 エ 田中角栄 記号 _____

(5) 8月12日、観測史上最高気温となる41.0度が観測された四万十市が位置する県名を書きなさい。

(6) 8月18日、桜島で爆発的な噴火がおり、噴煙が5000mに達しましたが、桜島の位置としてあてはまるものを、右の地図のA~Eから1つ選びなさい。



(7) 8月29日、実験線の全線開通にともない、リニア中央新幹線の試験走行が再開されましたが、2027年に開業予定の区間としてあてはまるものを、次から1つ選びなさい。

- ア 品川—名古屋間 イ 名古屋—新大阪間 ウ 品川—岡山間 エ 新大阪—岡山間

(8) 10月2日、伊勢神宮のご神体をうつす式年遷宮の主要行事が行われました。これについて、次の問いに答えなさい。

① 伊勢神宮の由来については、奈良時代につくられた歴史書に記されていますが、この歴史書としてあてはまるものを、次から1つ選びなさい。

- ア 日本書紀 イ 風土記 ウ 源氏物語 エ 平家物語

② 伊勢神宮には古くから多くの人がお参りに訪れており、江戸時代の小説である「東海道中膝栗毛」にもそのような記されています。この小説の作者の名前を書きなさい。