



# 2015年テーマ別時事問題〈経済・国際〉



1 〈新幹線の開業〉 次の文を読んで、あとの問いに答えなさい。

1997年に東京駅と長野駅を結ぶ新幹線が開業し、長野新幹線と呼ばれていましたが、2015年3月14日、長野駅と金沢駅を結ぶ新幹線が開業し、東京駅と金沢駅を結ぶ **A** 新幹線となりました。上越妙高駅までは **B** J R 東日本、上越妙高駅から先の金沢駅までは **C** J R 西日本が運営しています。

2016年3月26日には、新青森駅と新函館北斗駅を結ぶ北海道新幹線が開業する予定です。これに先立ち、2015年10月13日、**D** J R 北海道は **E** 北海道新幹線の特急料金を国土交通大臣に認可申請し、新幹線の料金を公表しました。

- (1) **A** にあてはまる語句を書きなさい。 -----  
 (2) 下線部 **B** ~ **D** について説明した次の文を読んで、あとの問いに答えなさい。

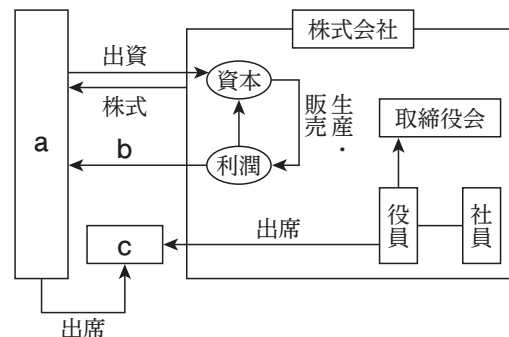
下線部 **B** ~ **D** の前身は、いずれも日本国有鉄道（国鉄）という **あ** 国営企業です。国鉄は、1987年に分割 **い** 化され、東日本旅客鉄道株式会社（J R 東日本）、西日本旅客鉄道株式会社（J R 西日本）、北海道旅客鉄道株式会社（J R 北海道）など、別々の **う** 株式会社となりました。

① 下線部 **あ** について、国営企業や地方公営企業、特殊法人、独立行政法人は、利潤を目的としない企業です。このような企業を何といいますか。 -----

② **い** にあてはまる語句を、漢字2字で書きなさい。 -----

③ 下線部 **う** について、右の図は、株式会社のしくみを表したものです。 **a** ~ **c** にあてはまる語句を書きなさい。

**a** -----  
**b** -----  
**c** -----



④ 株式や株式会社について述べた文として正しいものを、次から1つ選びなさい。

- ア 法人企業の中では、株式会社は少数である。
- イ 株式は自由に売買することはできない。
- ウ すべての株式は証券取引所で買うことができる。
- エ 一般に、業績が上がっている会社の株価は上昇する。

(3) 下線部 **E** について、次の問いに答えなさい。

① 社会への影響が大きいとして、価格の決定に下線部 **E** のような手続きが必要な料金を何といいますか。 -----

② 野菜の価格は、①と異なり、需要量・供給量の変化の影響を受けます。2015年8月後半以降、長雨や日照不足の影響で野菜の価格が大きく変動しました。野菜の価格の変動の様子とその理由を次のいずれか1つの語句を用いて、説明しなさい。

「需要量」「供給量」

2 〈マイナンバー、労働者派遣法〉 次の文は、2015年9月に成立した法律についてまとめたものです。これらの文を読んで、あとの問いに答えなさい。

9月3日 改正マイナンバー法、改正個人情報保護法が可決・成立

マイナンバーは「**A** 税と **B** 社会保障の共通番号」として、日本に住民票があるすべての人に12桁の番号を割り当てるもので、2016年1月に運用が開始されます。今回の改正マイナンバー法により、2018年から銀行口座などでもマイナンバーが利用できることになりました。改正個人情報保護法では、**C** 企業が蓄積した個人情報を匿名に加工して、外部に提供することが可能になりました。

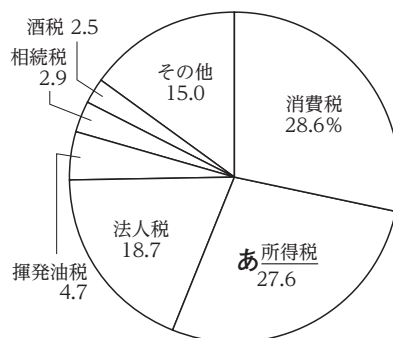
9月11日 改正労働者派遣法が可決・成立

労働者は、雇用形態によって **D** 正社員、アルバイト、パート、派遣労働者、契約労働者などに分類されます。このうち、正社員を正規労働者、正社員以外を非正規労働者と呼びます。憲法では勤労の権利や労働三権を保障し、また労働者の権利を守るために **E** 労働三法が制定されています。改正労働者派遣法は、派遣労働者の派遣期間の見直しや、派遣元に対して雇用継続のための措置、正社員となるための支援などを義務づけています。

(1) 下線部Aについて、次の問いに答えなさい。

① 右の資料1の下線部あでは、所得が多いほど高い税率が課せられています。このような制度を何といいますか。

資料1 国税の内訳



(2014年度)(2015/16年版「日本国勢図会」より)

② 資料1中で、税を納める人と税を実際に負担する人が異なる税の割合の合計は何%を占めていますか。ただし、「その他」はふくめないこととします。 \_\_\_\_\_ %

③ 不景気のとき、国はどのような財政政策をとりますか。次の語句を用いて説明しなさい。

「税」

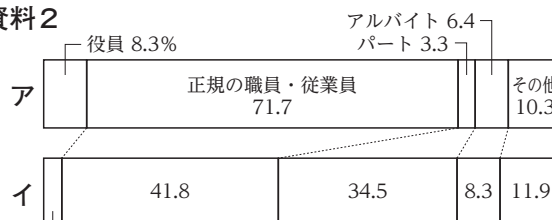
(2) 下線部Bについて、収入が無かったり、少なかったりする世帯に生活費などを支給する社会保障制度の種類として正しいものを、次から1つ選びなさい。

ア 社会保険    イ 公的扶助    ウ 社会福祉    エ 公衆衛生

(3) 下線部Cなどが蓄積した個人の交通機関の利用記録、商品購入履歴などの多種にわたる大量のデータは、何と呼ばれていますか。カタカナで書きなさい。

(4) 下線部Dについて、右の資料2は、雇用形態別の雇用者構成比を示したものであり、ア、イは男性、女性のいずれかを示しています。女性を示しているものはどちらですか。 \_\_\_\_\_

資料2



(2014年平均)

(2015/16年版「日本国勢図会」より)

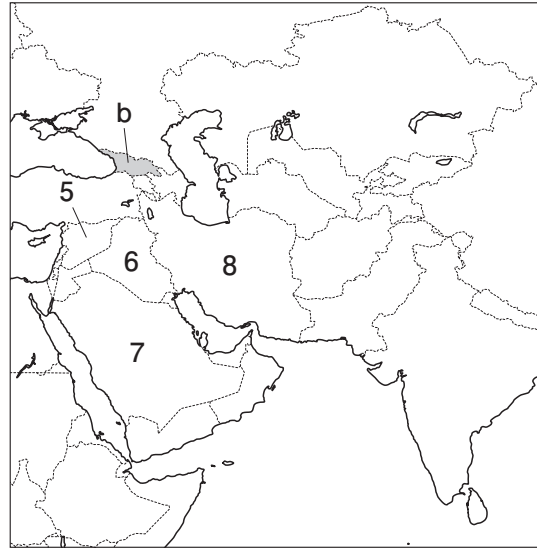
使用者は、労働者が女性であることを理由として、賃金について、男性と差別的取り扱いをしてはならない。

3 〈ヨーロッパ・中東情勢〉 次のA, Bの地図を見て, あとの問いに答えなさい。

A



B

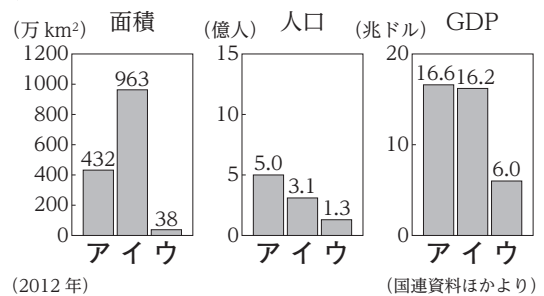


- (1) Aの地図中に, 国際連合の安全保障理事会の常任理事国が3か国, 示されています。この3つの国名を書きなさい。
- (2) Aの地図中の■の国は, EUに加盟しています。EUについて, 次の問いに答えなさい。
- ① aは, 2015年1月1日からEU(ヨーロッパ連合)の共通通貨を導入した国です。aの国名を答えなさい。また, この共通通貨を何といいますか。
- ② 次の文にあてはまる国を, Aの地図中の1~4から1つ選び, 番号と国名を書きなさい。

深刻な財政危機状態にあるが, 2015年7月に, EUが求める財政緊縮策が国民投票によって否決された。

- ③ 右のグラフは, EU, 日本, アメリカの面積, 人口, **グラフ**

GDPを比較したものです。EUにあてはまるものをア~ウから1つ選びなさい。



- (3) 日本政府は, これまでBの地図中のbの国を「グルジア」と呼んでいましたが, 2015年4月22日から, 表記を変更しました。bの国は何という表記になりましたか。

- (4) 内戦状態が続くシリアについて, 次の問いに答えなさい。
- ① シリアの位置を, Bの地図中の5~8から1つ選びなさい。
- ② 2015年8月ごろから, シリアから脱出した人々の大部分がめざしたAの地図中のXの国にあてはまる文を, 次から1つ選びなさい。
- ア 2016年に夏季オリンピックが開催される。
- イ 2015年に東西統一25周年をむかえた。
- ウ アジアインフラ投資銀行の設立を主導した。
- エ 2015年に中東呼吸器症候群 (MERS) の感染者数が拡大した。

- 4 〔環太平洋経済連携協定〕 次の地図は、環太平洋経済連携協定の参加国を示しています。この地図を見て、あとの問いに答えなさい。



- (1) 環太平洋経済連携協定の略称を、アルファベットで書きなさい。 -----
- (2) 2015年10月5日、アトランタで開かれていた環太平洋経済連携協定の交渉が、大筋で合意に達しました。このとき交渉にあたった経済再生担当大臣を、次から1人選びなさい。  
 ア あそう たろう 麻生太郎    イ いし ぼしげ 石破茂    ウ あまり あき 甘利明    エ きしだ ふみお 岸田文雄 -----
- (3) (2)の交渉で話し合われたことについて説明した次の文を読んで、あとの問いに答えなさい。

輸出品・輸入品にかかる  の撤廃や削減などについて、話し合われた。たとえば b 日本が輸入する牛肉については、現在の  率38.5%が、今後15年で9%に引き下げられることになった。カナダでは、日本から輸入する自動車の完成車の  率6.1%が、  。

- ①  にあてはまる語句を答えなさい。 -----
- ② 下線部 **b** の日本の畜産農家への影響について述べた文として正しいものを、次から1つ選びなさい。  
 ア 外国産の牛肉が高くなるが、日本の畜産農家はあまり影響を受けない。  
 イ 外国産の牛肉が高くなるため、日本の畜産農家にとっては有利な状況となる。  
 ウ 外国産の牛肉が安くなるが、日本の畜産農家はあまり影響を受けない。  
 エ 外国産の牛肉が安くなるため、日本の畜産農家にとっては不利な状況となる。 -----
- ③  にあてはまる文を、次から1つ選びなさい。  
 ア そのまま継続されることになった  
 イ 一定期間の ゆうよ 猶予後に引き上げられることになった  
 ウ 一定期間の猶予後に撤廃されることになった -----
- (4) 地図中の **A** 国と **B** 国について、次の問いに答えなさい。
- ① **A** 国は、2015年7月20日に地図中の **B** 国と54年ぶりに国交を回復しました。**B** 国の国名を書きなさい。 -----
- ② **A** 国と **B** 国が54年前に国交を断絶した背景にあった、東西のきびしい対立の状態を何といいますか。 -----