

1

世界のすがた

学年 クラス

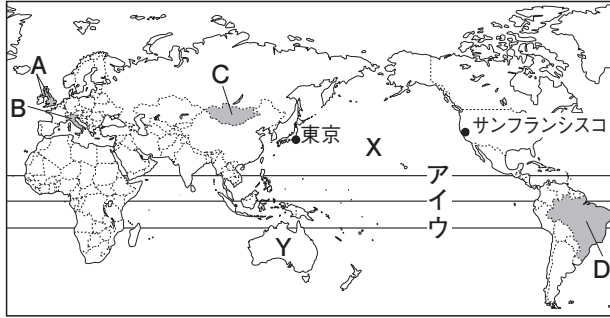
氏名

得点

100

1 右の地図を見て、次の問いに答えなさい。

- (1) 地球の表面積のうち、陸地と海洋が占める比率はいくらか。
- (2) 赤道はどれか。地図中のア～ウから1つ選びなさい。
- (3) Xは、面積が世界最大の海洋である。この海洋名を答えなさい。
- (4) Yの大陸名を答えなさい。
- (5) 東京が2月1日午前6時のとき、西経120度の経線で標準時を定めるサンフランシスコは何月何日何時か。
- (6) 世界の独立国はおよそいくつか。次から1つ選びなさい。
ア 100 イ 140 ウ 200 エ 250
- (7) 次の文にあてはまる国を、地図中のA～Dからそれぞれ選びなさい。
 - ① この国の首都の市内には、世界一面積の小さい国がある。
 - ② この国の首都を本初子午線が通り、日本と同じ島国である。
 - ③ 日本と同じ東アジアの国で、海に面していない内陸国である。
 - ④ 日本から最も遠い国の1つで、多くの日系人が生活している。

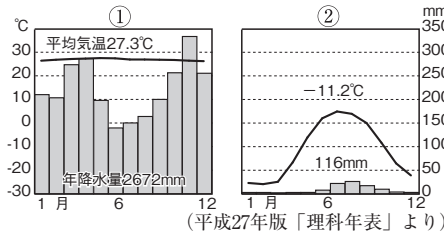
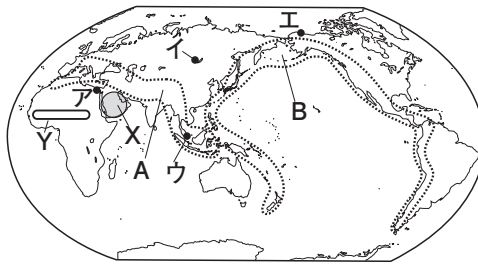


1 5点×10=50点

(1)	陸地：海洋＝	：
(2)		
(3)		
(4)		大陸
(5)		
(6)		
(7)	①	
	②	
	③	
	④	

2 右の地図を見て、次の問いに答えなさい。

- (1) A, Bの造山帯名をそれぞれ答えなさい。
- (2) Bの造山帯に属する山脈を、次から1つ選びなさい。
ア アルプス山脈
イ アンデス山脈
ウ ウラル山脈
- (3) ①, ②の雨温図が示している都市を、地図中のア～エからそれぞれ選びなさい。
- (4) 次の文で述べた風を、それぞれ何というか。
 - ① 大陸西岸で一定方向に吹く風。
 - ② 季節によって風向きが変わる風。
- (5) Xの地域で、広く信仰されている宗教は何か。
- (6) Yの地域に見られる伝統的な住居を、次から1つ選びなさい。
ア 日干しれんがの家 イ 高床の家 ウ 組み立て式の家
- (7) 世界の三大穀物とは、米・小麦とあと1つは何か。



2 5点×10=50点

(1)	A	造山帯
	B	造山帯
(2)		
(3)	①	
	②	
(4)	①	
	②	
(5)		
(6)		
(7)		